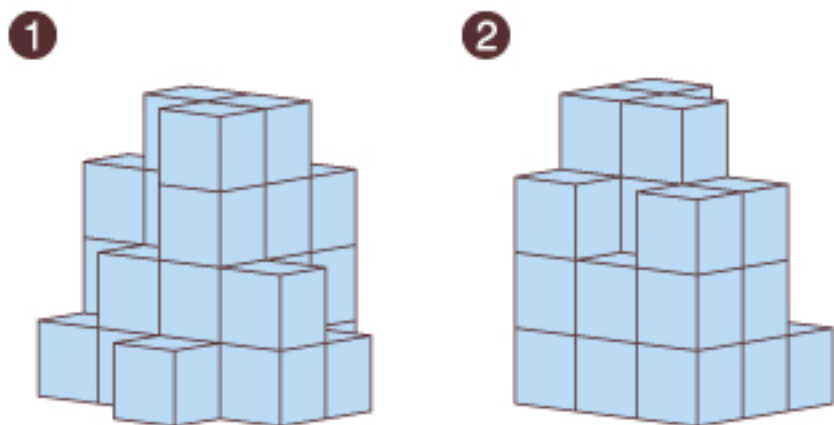




Q4

何個あるかな？

立方体のブロックがたくさん積んであります。
 エリコさんから見たときは図①のように、
 反対側にいるミサコさんから見たときには図②のように見えました。
 さて、ブロックは全部で何個あるのでしょうか。
 ただし、うかんでいるものはないと考えてください。



答え _____ 個



Q5

とびこしたら消せる！

黒いコマをすべて消すゲームに挑戦してみましょう。
 ルールは下のとおりです。

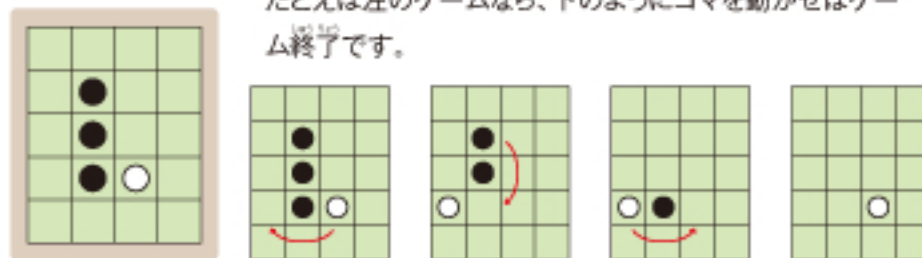
ルール ①
 2つのコマがとなり合わせ(ナナメは×)に並んでいるとき、一方のコマは他方のコマをとびこすことができます。とびこすことができるのは、とびこした先にコマがないときで、一度に1個だけとびこすことができます。

ルール ②
 とびこされたコマは、消えてしまいます。

ルール ③
 黒いコマがすべて消えたときに、白いコマはもとの場所にもどっていきません。

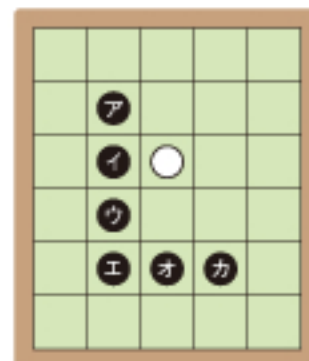
(例)

たとえば左のゲームなら、下ののようにコマを動かせばゲーム終了です。



いよいよ本番に挑戦！

それでは右のゲームの場合、最後に消える黒いコマは、ア～カのうちどれでしょうか。オセロなどを使って、実際にコマを動かしてみるといいですよ。



答え _____