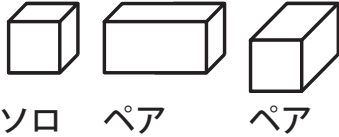
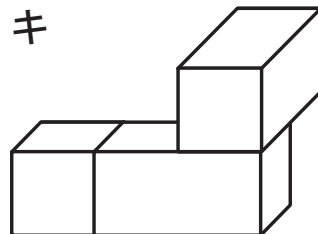
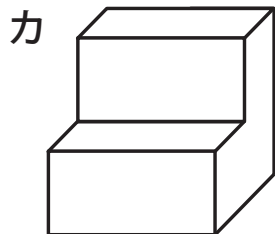
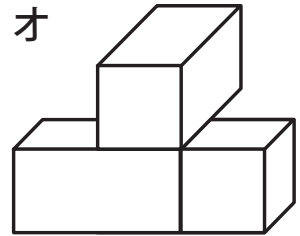
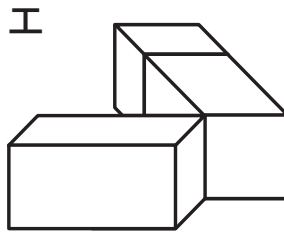
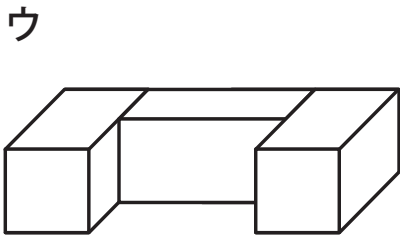
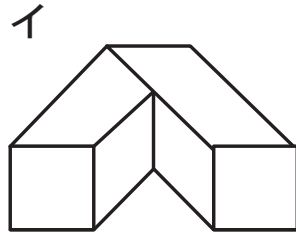
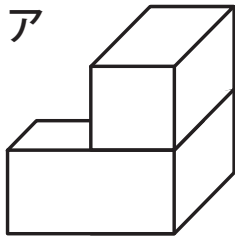


キューブが合体！

4年生の作った問題

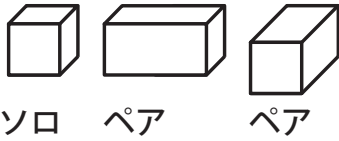


左の3つのキューブを組み合わせてできるのはア~キのどれでしょう。記号に○をつけましょう。



キューブが合体！ 解答

4年生の作った問題



左の3つのキューブを組み合わせることができるのはア~キのどれでしょう。記号に○をつけましょう。

