



□+□パズル

4年生の作った問題


 +
 
 =
 はどの形になるでしょう。

こた 答えは3つあります。きごう 記号に○をつけましょう。

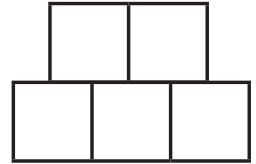
ア




イ



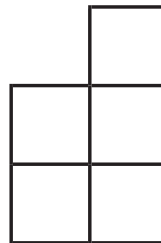
ウ



エ





オ



□+□パズル 解答

4年生の作った問題

 +  = はどの^{かたち}形になるでしょう。

^{こた}答えは3つあります。^{きごう}記号に○をつけましょう。


ア




イ



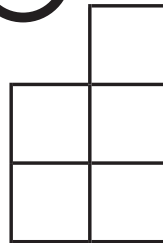
ウ



エ

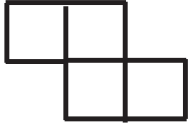


オ

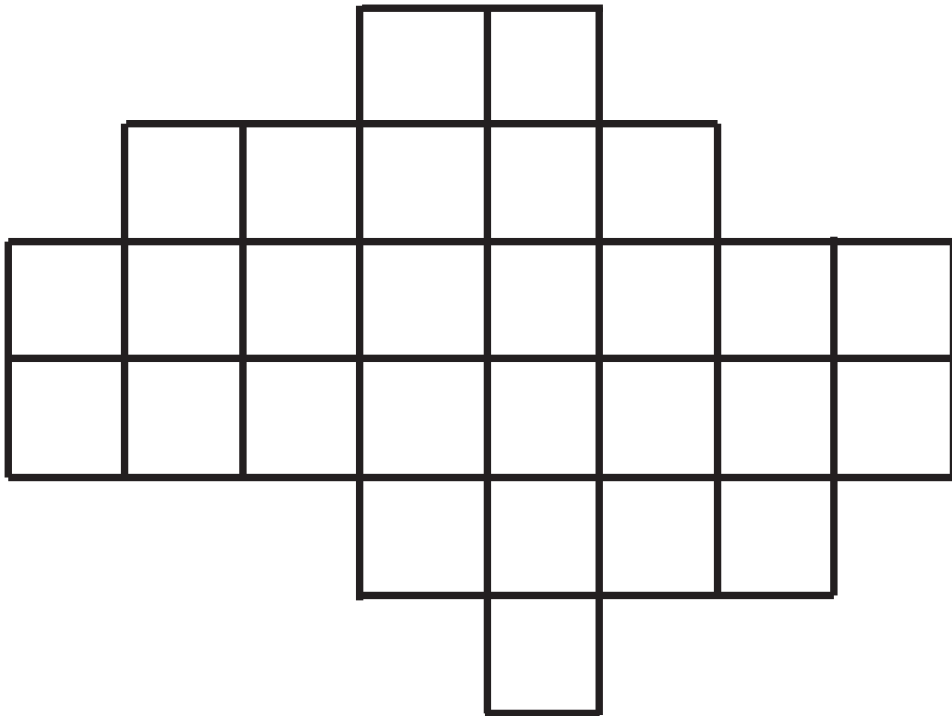


しきつめ

2年生の作った問題



このピースを7個使^{こつか}って、下の図をしきつめましょう。ピースの向^むきを変^かえたり、ひ^ひっくり返^{かえ}したりしてもよいです。

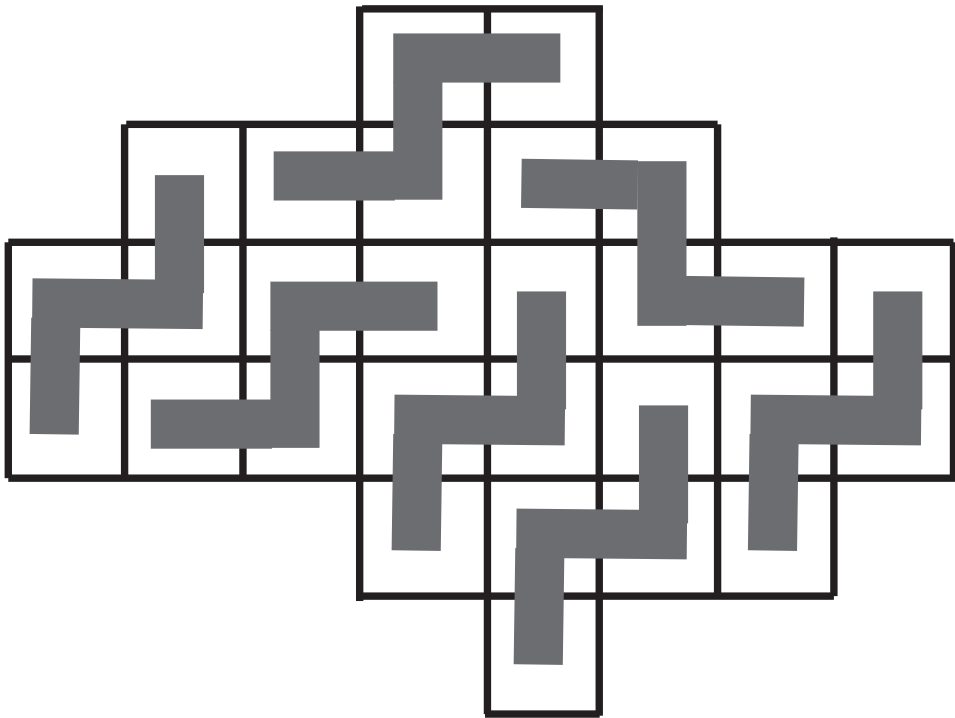


しきつめ **解答**

2年生の作った問題





このピースを7個使^{こつか}って、下の図をしきつめましょう。ピースの向^むきを変^かえたり、ひ^{かえ}っくり返したりしてもよいです。



□+□パズル

4年生の作った問題

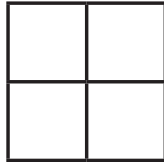
 +  = はどの形になるでしょう。

答えは2つあります。記号に○をつけましょう。

ア




イ



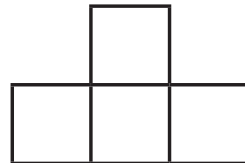
ウ



エ





オ



□+□パズル

解答

4年生の作った問題


 +  = はどの形になるでしょう。

答えは2つあります。記号に○をつけましょう。

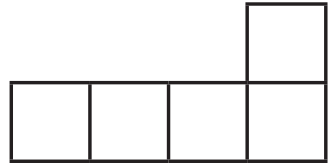
ア



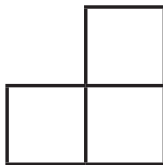
イ



ウ



エ



オ

