

○□△めいろ

6年生の作った問題

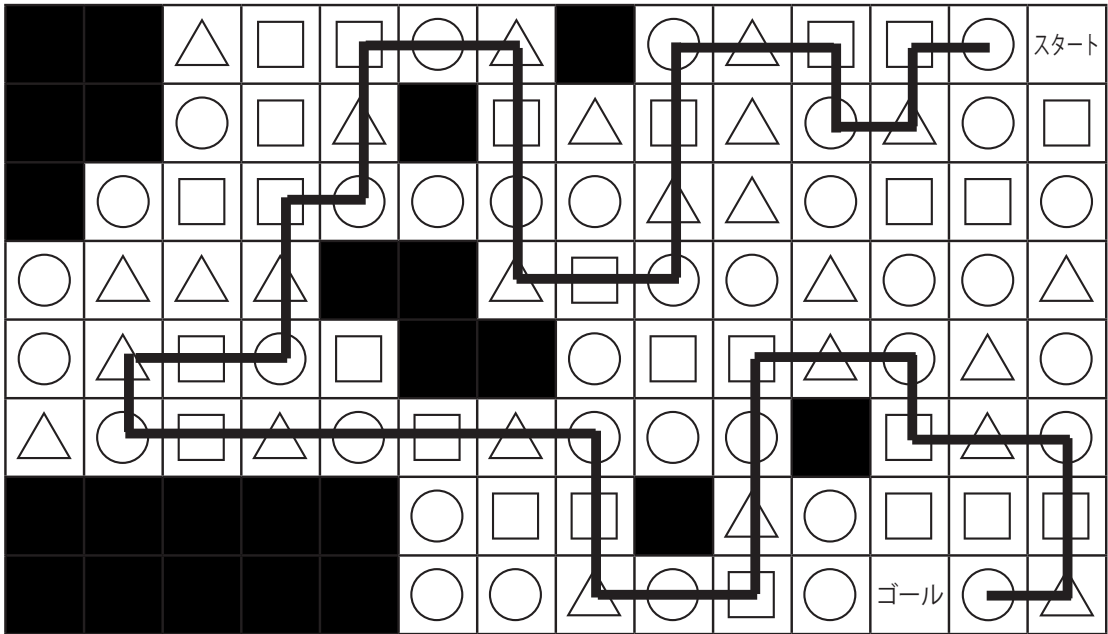
○→□→△の^{じゅんばん}順番でゴールまで^{すす}進みましょう。
 ななめには^{すす}進めません。

		△	□	□	○	△		○	△	□	□	○	スタート
		○	□	△		□	△	□	△	○	△	○	□
	○	□	□	○	○	○	○	△	△	○	□	□	○
○	△	△	△			△	□	○	○	△	○	○	△
○	△	□	○	□			○	□	□	△	○	△	○
△	○	□	△	○	□	△	○	○	○		□	△	○
					○	□	□		△	○	□	□	□
					○	○	△	○	□	○	ゴール	○	△

○□△めいろ 解答

6年生の作った問題

○→□→△の^{じゅんばん}順番でゴールまで^{すす}進みましょう。
ななめには^{すす}進めません。






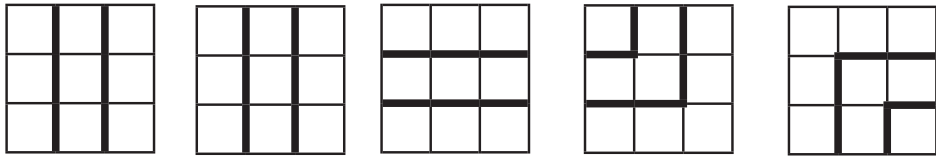


別解あり

パネルめいろ

4年生の作った問題

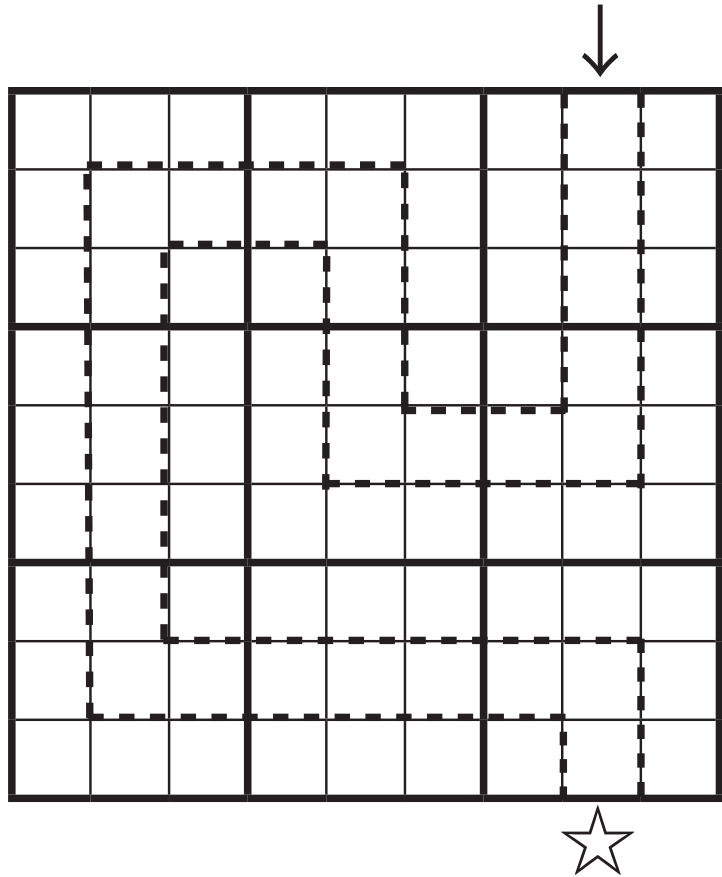

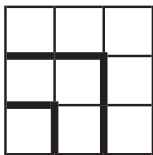


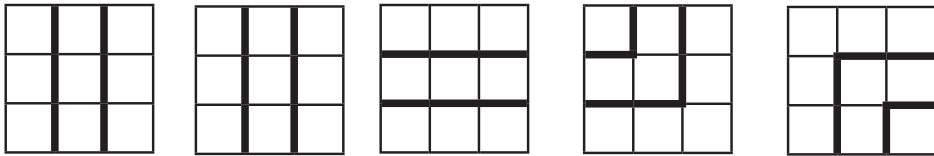
矢印からスタートして、☆でゴールするようにめいろをつくろう！
パネルは全部使わなければいけません。



パネルめいろ 解答

4年生の作った問題

やじるし
矢印からスタートして、☆でゴールするようにめいろをつくろう！
パネルは全部使わなければいけません。
ぜんぶつか



数字めいろ

3年生の作った問題

4 → 3 → 2 の^{じゆんばん}順番でゴールまで^{すす}進みましょう。
 ななめには^{すす}進めません。

スタート

4	3	2	9	9	5	9	5	6	9	3	1	2	3
5	4	4	3	2	4	8	7	4	7	8	8	4	5
6	8	3	3	4	3	9	8	9	5	6	9	9	6
7	9	9	9	3	7	8	1	2	3	4	7	8	2
3	4	8	7	2	4	3	2	4	5	6	5	6	9
8	7	1	7	3	4	4	4	7	8	9	1	4	7
8	7	7	9	2	3	2	3	2	3	4	5	2	5
9	6	5	4	3	3	9	2	4	3	2	4	3	2

ゴール

数字めいろ 解答

3年生の作った問題

4 → 3 → 2 の^{じゅんばん}順番でゴールまで^{すす}進みましょう。
 ななめには^{すす}進めません。

スタート

4	3	2	9	9	5	9	5	6	9	3	1	2	3
5	4	4	3	2	4	8	7	4	7	8	8	4	5
6	8	3	3	4	3	9	8	9	5	6	9	9	6
7	9	9	9	3	7	8	1	2	3	4	7	8	2
3	4	8	7	2	4	3	2	4	5	6	5	6	9
8	7	1	7	3	4	4	4	7	8	9	1	4	7
8	7	7	9	2	3	2	3	2	3	4	5	2	5
9	6	5	4	3	3	9	2	4	3	2	4	3	2

ゴール

別解あり

小中大めいろ

3年生の作った問題

小→中→大 の^{じゅんばん}順番で^{すす}進んでゴールを^{めざ}目指しましょう。
 ななめには^{すす}進めません。

スタート	小	大	中	小	中	小	小	大	小	小
小	中	小	中	大	小	大	中	小	大	小
中	大	小	小	小	中	小	大	中	小	中
大	小	中	大	中	大	中	大	小	大	小
中	小	中	小	小	中	小	中	大	小	大
小	大	小	中	大	小	大	中	中	中	大
中	小	中	大	小	中	大	小	小	小	小
小	大	小	小	小	小	小	中	大	大	中
大	中	大	小	大	小	中	中	小	小	ゴール

小中大めいろ 解答

3年生の作った問題

小→中→大 の順番じゅんばんで進すすんでゴールめざを目指めざしましょう。
 ななめには進すすめません。

スタート	小	大	中	小	中	小	小	大	小	小
小	中	小	中	大	小	大	中	小	大	小
中	大	小	小	小	中	小	大	中	小	中
大	小	中	大	中	大	中	大	小	大	小
中	小	中	小	小	中	小	中	大	小	大
小	大	小	中	大	小	大	中	中	中	大
中	小	中	大	小	中	大	小	小	小	小
小	大	小	小	小	小	小	中	大	大	中
大	中	大	小	大	小	中	中	小	小	ゴール

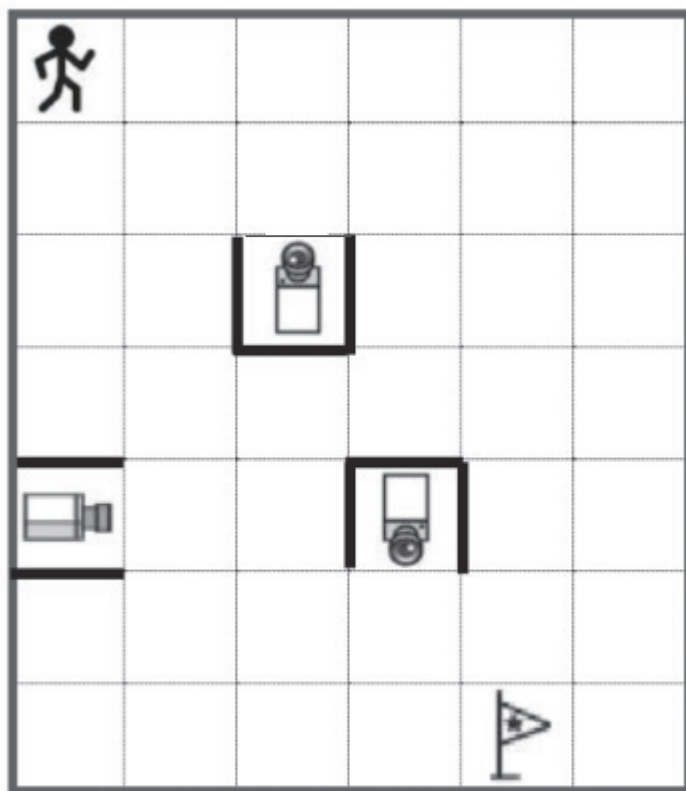
別解あり

みはりめいろ

3年生の作った問題

カメラに^み見つからないようにゴールを^め目指しましょう。

スタート

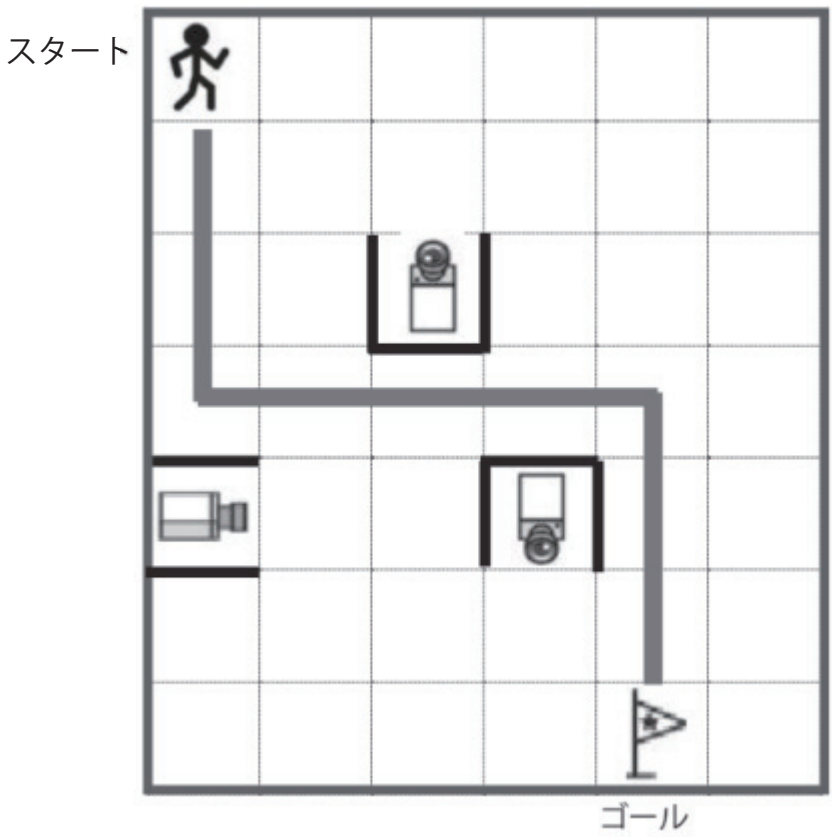


ゴール

みはりめいろ 解答

3年生の作った問題

カメラに見つからないようにゴールを目指しましょう。



別解あり

足し算・引き算めいろ

6年生の作った問題

た^{ざん}、ひ^{ざん}をやっていってゴールのときに「5」になっているようにする。どうい^{ふう}に^{すす}んだか、^{せん}線をひいてみよう!

スタート

①	—	①	+	④	—	②
+		+		+		+
②	—	⑨	—	③	+	⑤
+		—		—		—
③	—	④	+	⑤	+	④

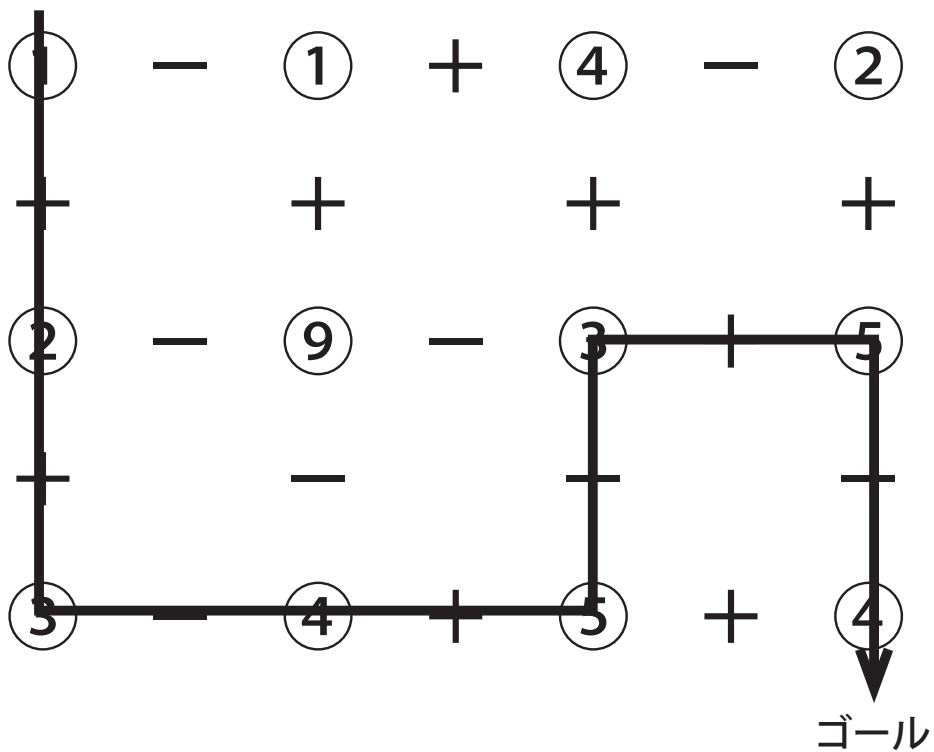
ゴール

足し算・引き算めいろ 解答

6年生の作った問題

た ぎん ひ ぎん
 足し算、引き算をやっていってゴールのときに「5」になっているようにする。どういう風に進んだか、線をひいてみよう！

スタート



あいうえおめいろ

4年生の作った問題

あいうえおかきくけこ……の順に^{じゅん}に進み^{すす}ましょう。

AとBのどちらがゴールになるかな。○をつけましょう。

スタート

あ	い	う	え	お	か	き	く	け	こ	さ	し	す	り	ゆ
い	と	し	さ	か	よ	れ	ち	こ	こ	し	い	せ	そ	け
う	す	と	り	ゆ	こ	じ	ち	た	え	す	せ	し	た	き
え	と	た	き	せ	い	る	つ	ゆ	う	よ	そ	い	ち	や
お	く	け	こ	う	こ	も	て	う	と	う	た	ぬ	つ	て
か	き	ゆ	さ	よ	あ	り	と	ろ	な	そ	ち	つ	ま	と
と	う	ひ	し	ほ	す	し	さ	つ	と	せ	い	て	に	な
り	い	せ	す	こ	せ	そ	な	に	ぬ	ね	せ	と	ぬ	は
れ	う	そ	ろ	も	さ	た	し	か	み	の	り	な	ね	の
う	た	た	ち	め	む	み	ま	ほ	ひ	は	い	に	ぬ	ね
ゆ	さ	ゆ	つ	こ	ね	の	は	へ	ふ	ま	ほ	か	う	の
ん	を	な	て	と	ぬ	も	ひ	ふ	み	み	へ	ふ	ひ	は
と	わ	ゆ	み	な	に	く	ほ	へ	ゆ	む	め	い	ゆ	く
う	ろ	り	ら	い	も	め	ま	を	わ	ら	も	り	か	き
あ	れ	る	よ	ゆ	や	む	み	ん	よ	ゆ	や	や	な	う

B
ゴール

A
ゴール

あいうえおめいろ 解答

4年生の作った問題

あいうえおかきくけこ……の順^{じゅん}に進^{すす}みましょう。

AとBのどちらがゴールになるかな。○をつけましょう。

スタート

あ	い	う	え	お	か	き	く	け	こ	さ	し	す	り	ゆ
い	と	し	さ	か	よ	れ	ち	こ	こ	し	い	せ	そ	け
ち	す	と	り	ゆ	こ	じ	ち	た	え	す	せ	し	た	き
え	と	た	き	せ	い	る	つ	ゆ	う	よ	そ	い	ち	や
お	く	け	こ	う	こ	も	て	う	と	う	た	ぬ	つ	て
か	き	ゆ	さ	よ	あ	り	と	ろ	な	そ	ち	つ	ま	と
と	う	ひ	し	ほ	す	し	さ	つ	と	せ	い	て	に	な
り	い	せ	す	こ	せ	そ	な	に	ぬ	ね	せ	と	ぬ	は
れ	う	そ	ろ	も	さ	た	し	か	み	の	り	な	ね	の
う	た	た	ち	め	む	み	ま	ほ	ひ	は	い	に	ぬ	ね
ゆ	さ	ゆ	つ	こ	ね	の	は	へ	ふ	ま	ほ	か	う	の
ん	を	な	で	と	ぬ	も	ひ	ふ	み	み	へ	ふ	ひ	は
と	わ	ゆ	み	な	に	く	ほ	い	ゆ	む	め	い	ゆ	く
う	る	り	ら	い	も	め	ま	を	わ	ら	も	り	か	き
あ	れ	る	よ	ゆ	や	む	み	ん	よ	ゆ	や	や	な	う

B
ゴール

Aゴール

数字めいろ

6年生の作った問題

0 → 1 → 2 → 3 → 4 → 5 → 6 → 7 → 8 → 9

の順番でゴールまで進もう！じゆんばんななめには進めません。すす

スタート

0	1	2	3	4	5	5	5	6	7
1	5	4	6	7	8	9	0	1	2
2	3	4	5	4	3	0	2	7	3
6	8	7	6	6	2	1	2	3	4
7	1	1	6	6	1	2	3	4	5
8	9	2	3	4	5	6	8	5	8
1	2	4	5	1	2	3	7	6	7
9	3	1	3	5	6	4	8	7	9
7	5	4	3	2	1	0	9	8	0
1	6	7	8	9	0	1	2	3	4

ゴール

数字めいろ 解答

6年生の作った問題

0 → 1 → 2 → 3 → 4 → 5 → 6 → 7 → 8 → 9

の順番でゴールまで進もう！じゆんばんななめにはすす進めません。

スタート

0	1	2	3	4	5	5	5	6	7
1	5	4	6	7	8	9	0	1	2
2	3	4	5	4	3	0	2	7	3
6	8	7	6	6	2	1	2	3	4
7	1	1	6	6	1	2	3	4	5
8	9	2	3	4	5	6	8	5	8
1	2	4	5	1	2	3	7	6	7
9	3	1	3	5	6	4	8	7	9
7	5	4	3	2	1	0	9	8	0
1	6	7	8	9	0	1	2	3	4

ゴール