

# ナンバーブリッジ

6年生の作った問題

ナンバーブリッジを<sup>と</sup>解いてみよう!

③

③

③

③

⑦

④

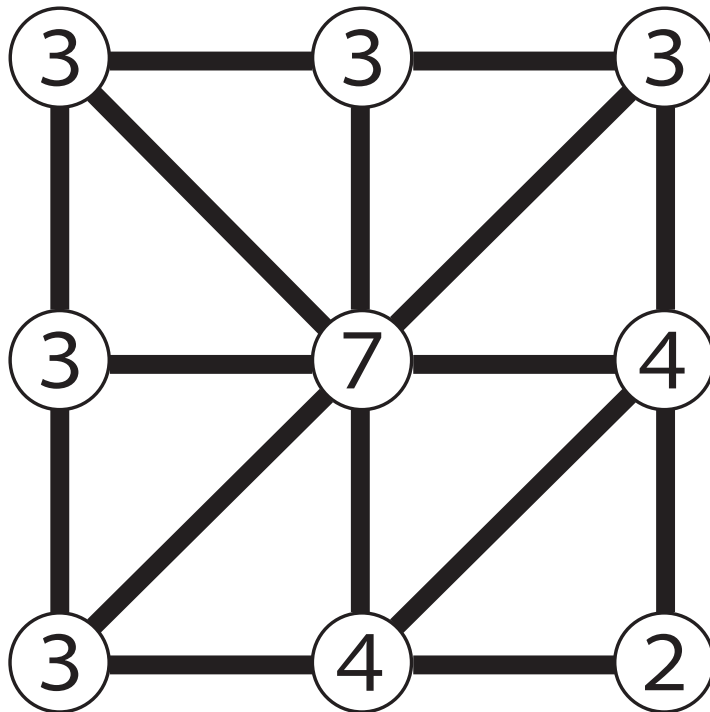
③

④

②

# ナンバーブリッジ 解答

6年生の作った問題

ナンバーブリッジを<sup>と</sup>解いてみよう！

# ナンバーブリッジ

4年生の作った問題

ナンバーブリッジを解いてみよう！

②

①

③

③

⑤

②

②

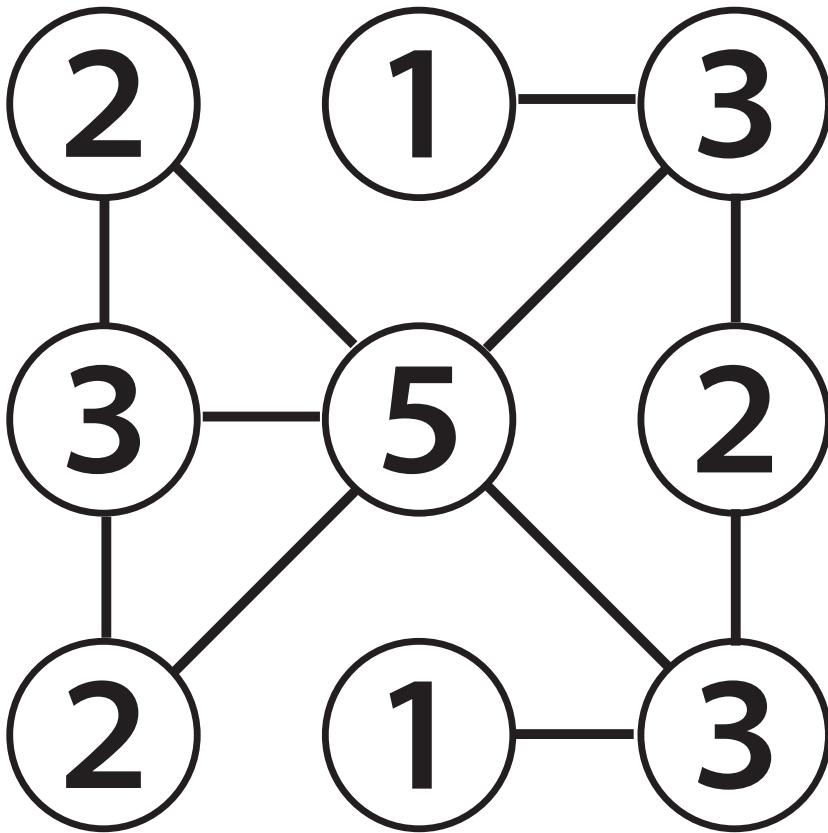
①

③

# ナンバーブリッジ 解答

4年生の作った問題

ナンバーブリッジを解いてみよう！



# ナンバーブリッジ

4年生の作った問題

ナンバーブリッジを解いてみよう！

3

3

3

2

6

2

2

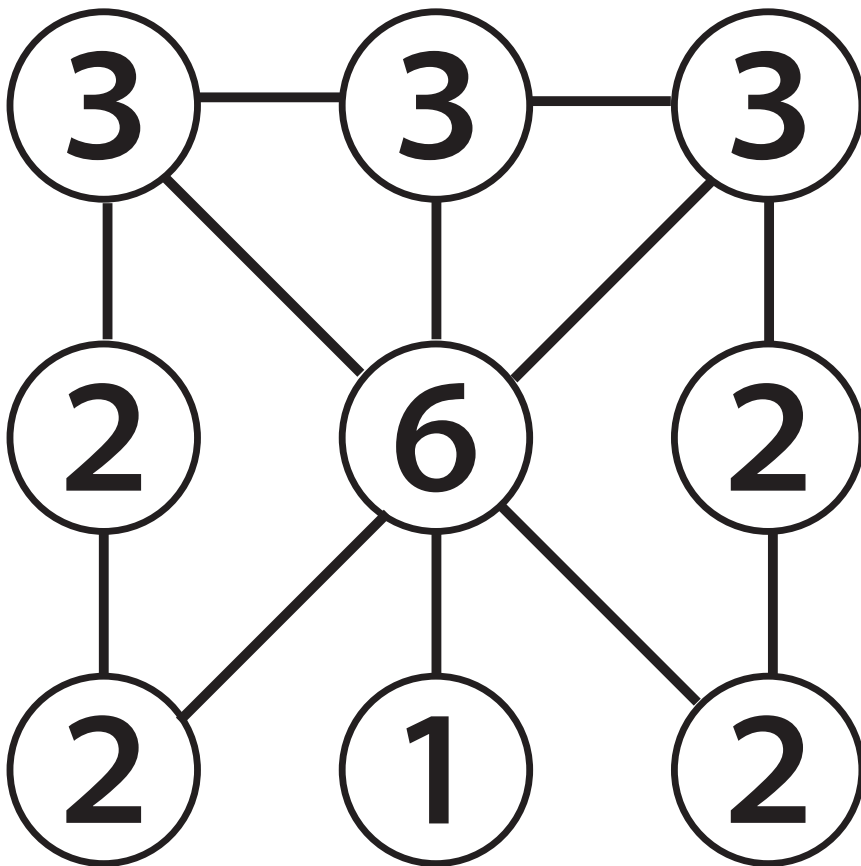
1

2

# ナンバーブリッジ 解答

4年生の作った問題

ナンバーブリッジを解いてみよう！



# ナンバーブリッジ

4年生の作った問題

ナンバーブリッジを解いてみよう！

③

④

②

④

⑤

⑤

①

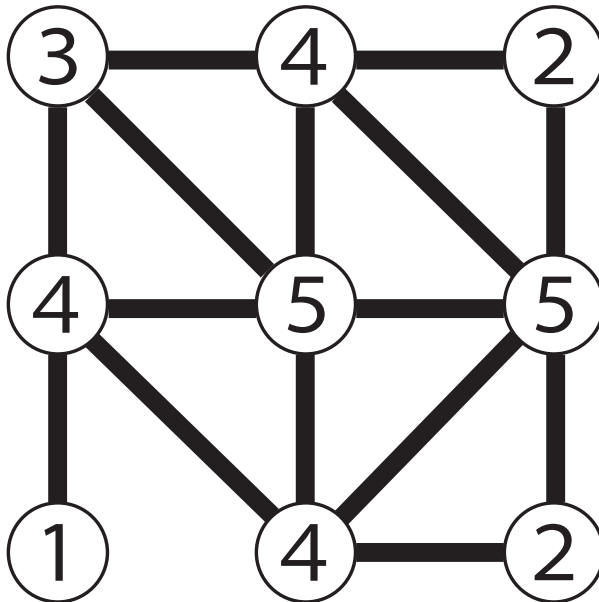
④

②

# ナンバーブリッジ 解答

4年生の作った問題

ナンバーブリッジを解いてみよう！

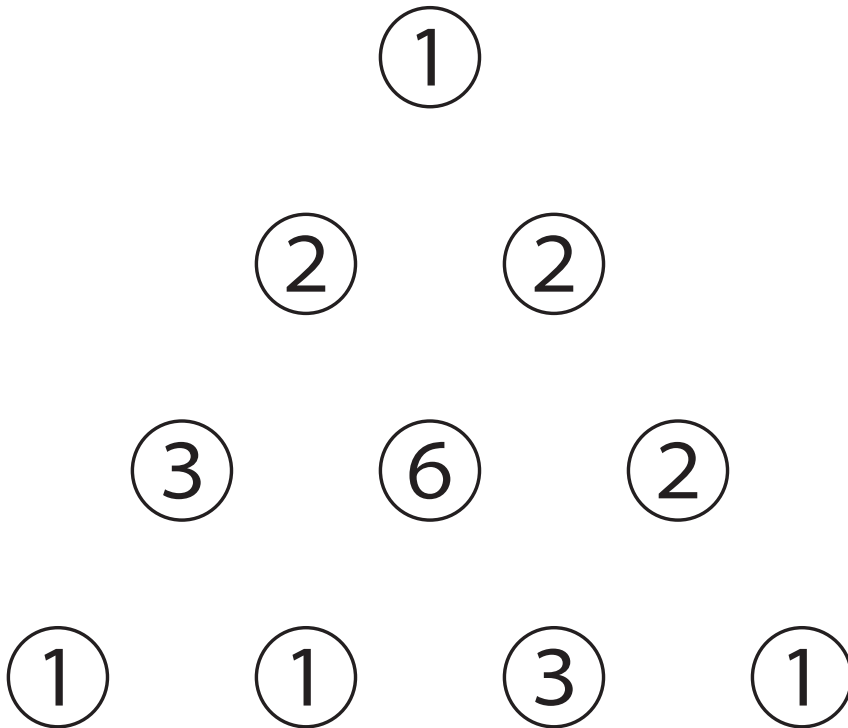




# ナンバーブリッジトライアングル

6年生の作った問題

ナンバーブリッジを解いてみよう！



# ナンバーブリッジトライアングル 解答

6年生の作った問題

ナンバーブリッジを<sup>と</sup>解いてみよう！