

# ゆきだるまさんはどれ？






4年生の作った問題

①ぼうしをかぶっています。

②首にはリボンをつけています。

③ボタンが3つついています。

さて、どのゆきだるま？○をつけましょう。



# ゆきだるまさんはどれ？ 解答






4年生の作った問題

①ぼうしをかぶっています。

②首にはリボンをつけています。

③ボタンが3つついています。

さて、どのゆきだるま？○をつけましょう。



# うらがわたしざん♪

1年生の作った問題

サイコロの出ている目の裏を足して計算しましょう。  
 (サイコロの目は、表と裏を足すと7になります)

$$\begin{array}{|c|} \hline \bullet & & \bullet \\ \hline \bullet & \bullet & \\ \hline \bullet & & \bullet \\ \hline \end{array} + \begin{array}{|c|} \hline \bullet & \bullet \\ \hline \bullet & \bullet \\ \hline \end{array} = \begin{array}{|c|} \hline \\ \hline \\ \hline \\ \hline \end{array}$$

$$\begin{array}{|c|} \hline \bullet & & \\ \hline & \bullet & \\ \hline & & \bullet \\ \hline \end{array} + \begin{array}{|c|} \hline \bullet & & \\ \hline & & \\ \hline & & \bullet \\ \hline \end{array} = \begin{array}{|c|} \hline \\ \hline \\ \hline \\ \hline \end{array}$$

# うらがわたしざん♪ 解答

1年生の作った問題

サイコロの出ている目の裏を足して計算しましょう。  
 (サイコロの目は、表と裏を足すと7になります)

$$\begin{array}{|c|} \hline \bullet & & \bullet \\ \hline \bullet & \bullet & \\ \hline \bullet & & \bullet \\ \hline \end{array} + \begin{array}{|c|} \hline \bullet & \bullet \\ \hline \bullet & \bullet \\ \hline \end{array} = \begin{array}{|c|} \hline 5 \\ \hline \end{array}$$




$$\begin{array}{|c|} \hline \bullet & & \\ \hline \bullet & & \\ \hline & & \bullet \\ \hline \end{array} + \begin{array}{|c|} \hline \bullet & & \\ \hline & & \\ \hline & & \bullet \\ \hline \end{array} = \begin{array}{|c|} \hline 9 \\ \hline \end{array}$$

# 正しいのはどれ？

3年生の作った問題

ただ<sup>え</sup>正しい絵に○をつけましょう。

- ①ウインクしている
- ②口<sup>くち</sup>をあけてわらっている
- ③ユニフォームの番号は「10」<sup>ばんごう</sup>
- ④サッカーボールをもっている





# 正しいのはどれ？ 解答

3年生の作った問題

ただ <sup>え</sup>正しい絵に○をつけましょう。

- ①ウインクしている
- ②口<sup>くち</sup>をあけてわらっている
- ③ユニフォームの番号<sup>ばんごう</sup>は「10」
- ④サッカーボールをもっている



# ともだちクイズ

3年生の作った問題

ヒントを<sup>よ</sup>読んで、せりなさんのともだちをみつけて○をつけましょう。

ヒント① 「<sup>ほん</sup>本をもっている」

ヒント② 「<sup>おう</sup>王かんをかぶっている」

ヒント③ 「ボタンが4つ、ついている」



# ともだちクイズ 解答

3年生の作った問題

ヒントを<sup>よ</sup>読んで、せりなさんのともだちをみつけて○をつけましょう。

ヒント① 「<sup>ほん</sup>本をもっている」

ヒント② 「<sup>おう</sup>王かんをかぶっている」

ヒント③ 「ボタンが4つ、ついている」





# けしゴム君の家は？

3年生の作った問題

ぶんぼうぐたちの言葉<sup>ことば</sup>をヒントに、けしゴムくん<sup>いえ</sup>の家をみつけて○をつけましょう。

ペンちゃんのとなりに  
すんでいるよ！



キャップくん



ペンちゃん

ぼくの家はどこ？



けしゴムくん



えんぴつくん

いちばん左に  
すんでいるよ！

キャップくんのいえから  
1けんあいているよ！



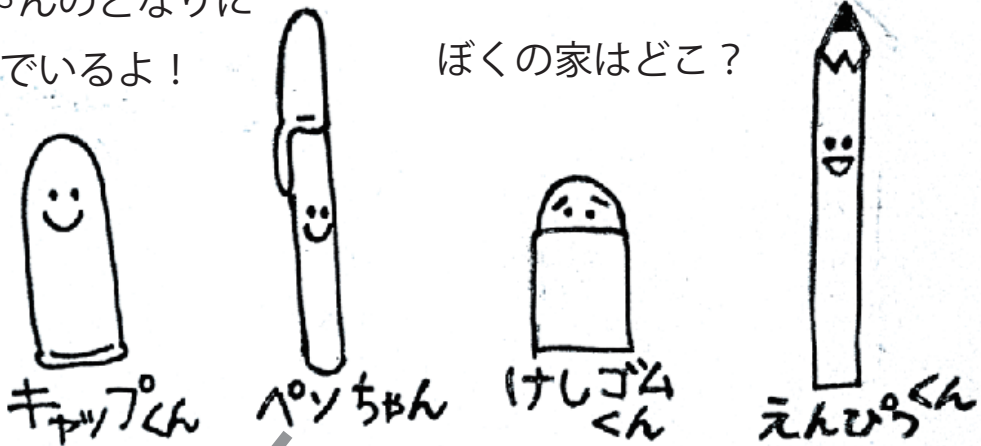
# けしゴム君の家は？ 解答

3年生の作った問題

ぶんぼうぐたちの言葉<sup>ことば</sup>をヒントに、けしゴムくんの家<sup>いえ</sup>をみつけて○をつけましょう。

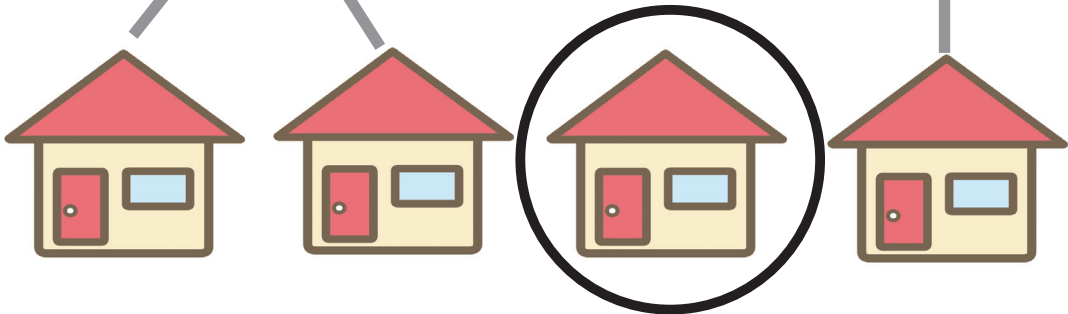
ペンちゃんのとなりに  
すんでいるよ！

ぼくの家はどこ？



いちばん左に  
すんでいるよ！

キャップくんのいえから  
1けんあいているよ！



## 3時のおやつは？

花まるの先生スペシャル

Aさん、Bさん、Cさん、Dさんがおやつに何を<sup>なに</sup>食べるか<sup>た</sup>相談<sup>そうだん</sup>していました。みんなが<sup>た</sup>食べたいおやつをもらえるように、<sup>せん</sup>線でつなぎましょう。

Bさん「私はプリンかドーナツが食べたいな。」

Cさん「ぼくは、だんごがきらい。他なら何でもいいよ。」

Dさん「私はプリンがほしい。」



Aさん



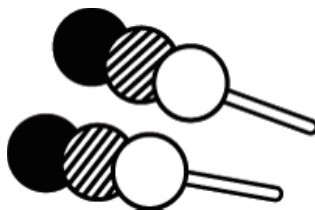
Bさん



Cさん



Dさん



# 3時のおやつは？ 解答

花まるの先生スペシャル

Aさん、Bさん、Cさん、Dさんがおやつに何を<sup>なに</sup>食べるか<sup>た</sup>相談<sup>そうだん</sup>していました。みんなが<sup>た</sup>食べたいおやつを<sup>せん</sup>もらえるように、線<sup>せん</sup>でつなぎましょう。

Bさん「私はプリンかドーナツが食べたいな。」

Cさん「ぼくは、だんごがきらい。他なら何でもいいよ。」

Dさん「私はプリンがほしい。」



Aさん



Bさん



Cさん



Dさん

