

# ぼくのおかし

5年生の作った問題

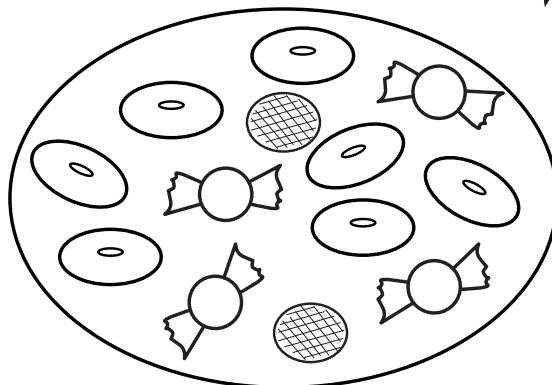
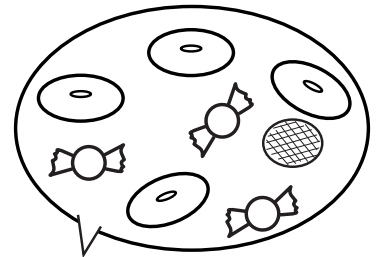
AくんとBちゃんが持ってきたおかしを1つのお皿にさらうつしたよ。Aくんが持ってきたおかしは①～④のうちどれかな？

① ドーナッツ 2こ  
クッキー 1こ  
あめ 2こ

② ドーナッツ 2こ  
あめ 1こ

③ ドーナッツ 3こ  
クッキー 1こ  
あめ 1こ

④ ドーナッツ 1こ  
あめ 2こ



こたえ ( )

## ぼくのおかし

## 解答

5年生の作った問題

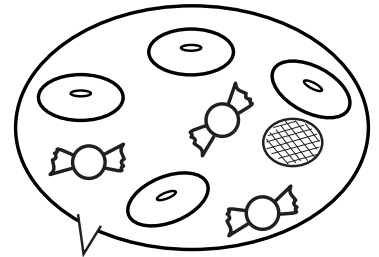
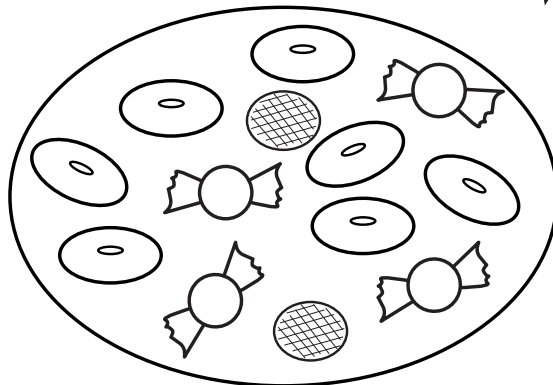
AくんとBちゃんが持ってきたおかしを1つのお皿にさらうつしたよ。Aくんが持ってきたおかしは①～④のうちどれかな？

① ドーナッツ 2こ  
クッキー 1こ  
あめ 2こ

② ドーナッツ 2こ  
あめ 1こ

③ ドーナッツ 3こ  
クッキー 1こ  
あめ 1こ

④ ドーナッツ 1こ  
あめ 2こ

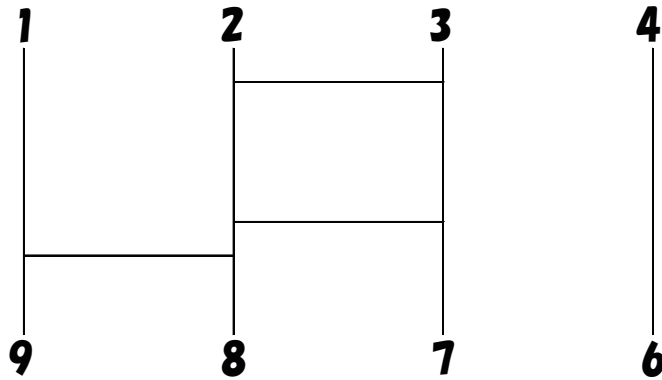


こたえ ( ③ )

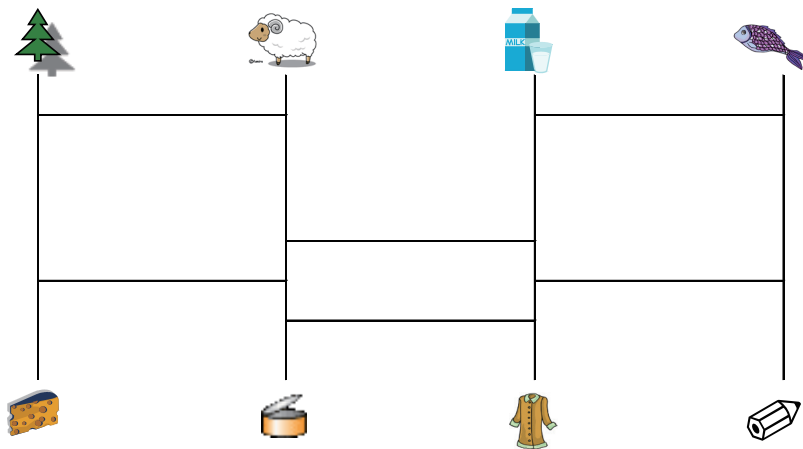
# あみだくじ

小学生の作った問題

- ① <sup>せん</sup>線を1本足して、<sup>ほん た</sup>上下合わせて10になるように、<sup>じょうげ あ</sup>完成させましょう。



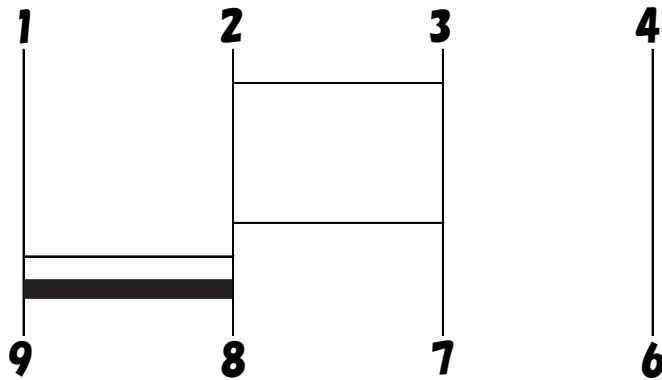
- ② <sup>せん</sup>線を1本足して<sup>ほん た</sup>正しい<sup>ただ</sup>あみだを<sup>かんせい</sup>完成させましょう。



# あみだくじ 解答

小学生の作った問題

- ① <sup>せん</sup>線を1本足して、<sup>ぼん た</sup>上下合わせて10になるように、<sup>じょうげ あ</sup>完成させましょう。



- ② <sup>せん</sup>線を1本足して正しいあみだを<sup>ぼん た</sup>完成させましょう。

