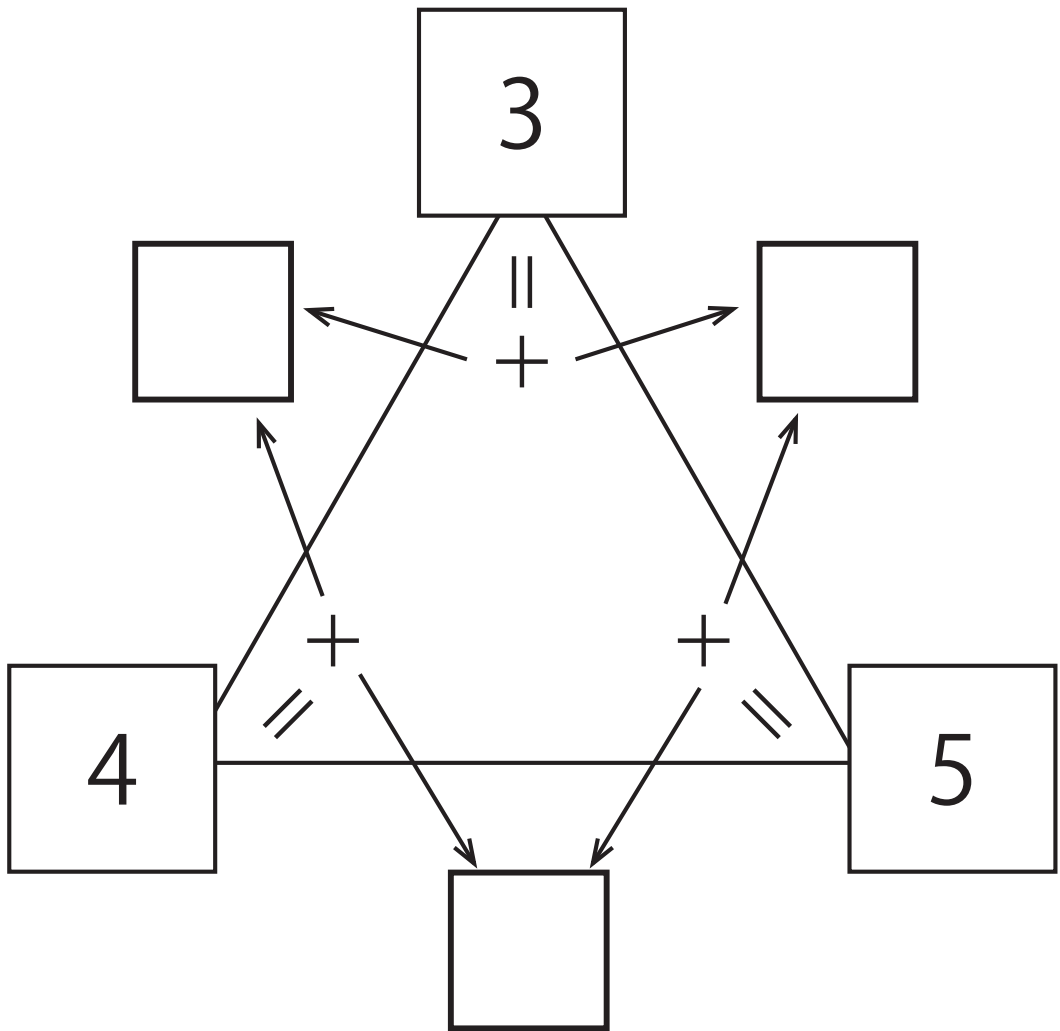


計算トライアングル

6年生の作った問題

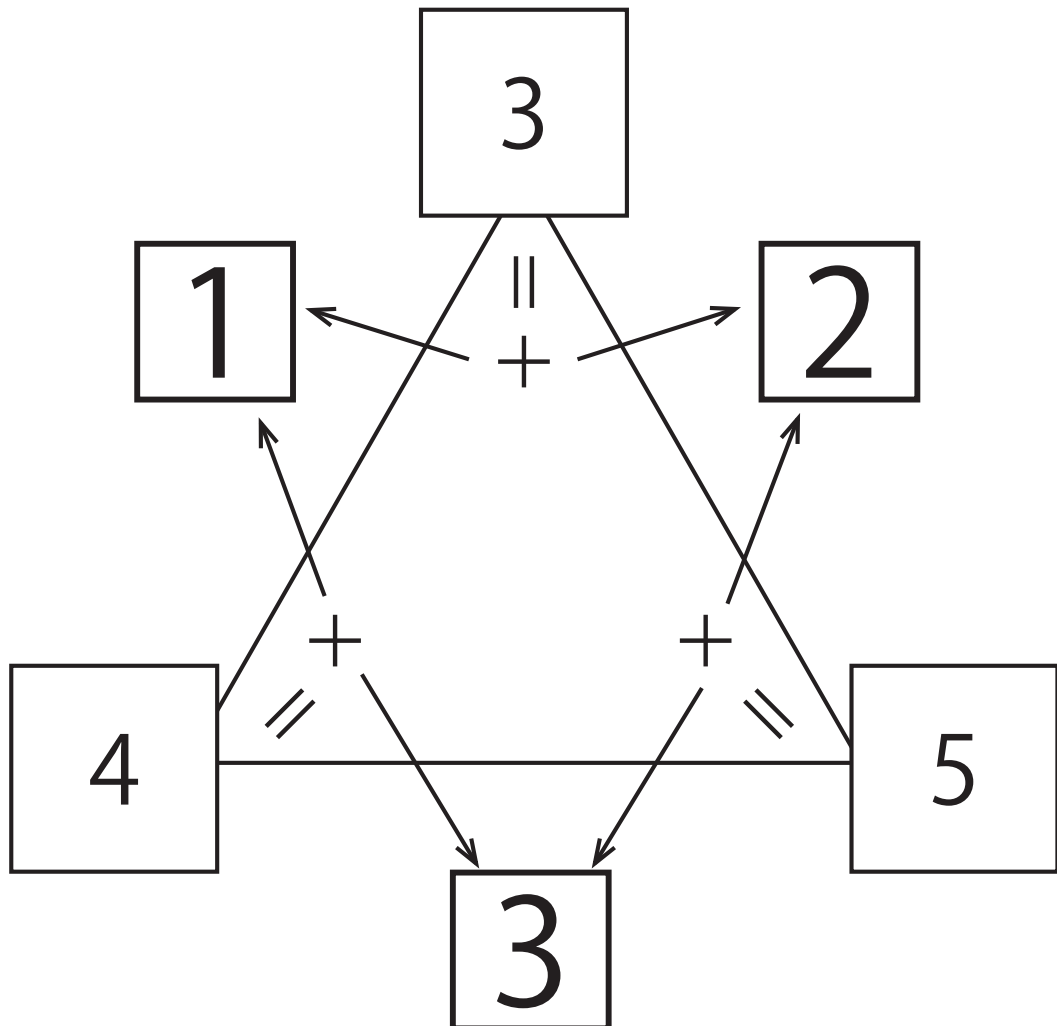
となりどうしの小さい□の数ちいを足すと、大きい□の数かずにあてはまる数たになります。□に数字おおを入れましょう。



計算トライアングル 解答

6年生の作った問題

となりどうしの小さい□の数ちいを足すと、大きい□の数おおにあてはまる数かずになります。□に数字すうじを入れましょう。




学年がちがうのは？

6年生の作った問題


先生がアレンジしてみたよ

Aくん、Bくん、Cくん、Dくんが自分のおたんじゆうびを友達に教えています。4人の中で一人だけ学年がちがう子はだれでしょう。




ぼく、あした
の8月26日
で10歳にな
るんだ！！

へえ、おめでとう！
ぼくは5月7日だから、
もう10歳だよ。



ぼくは、来年の
1月17日には、
11歳になるよ！

ぼくは、4月だよ。
来年の4月には11歳
になるんだ！




こたえ ()

学年がちがうのは？ 解答

6年生の作った問題


先生がアレンジしてみたよ

Aくん、Bくん、Cくん、Dくんが自分のおたんじょうびを友達に教えています。4人の中で一人だけ学年がちがう子はだれでしょう。




ぼく、あしたの8月26日で10歳になるんだ！！

へえ、おめでとう！
ぼくは5月7日だから、もう10歳だよ。



ぼくは、来年の1月17日には、11歳になるよ！

ぼくは、4月だよ。
来年の4月には11歳になるんだ！



こたえ (Cくん)