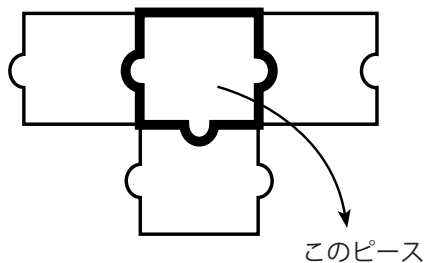


# 同じピースをさがせ！

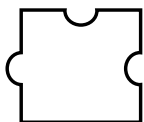
5年生の作った問題

みぎ おな かたち なん こ  
 右のピースと同じ形のピースは何個  
 あるでしょう。

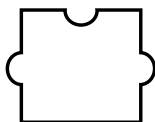
○をしてください。




①



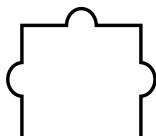
②



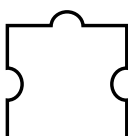
③



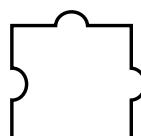
④




⑤



⑥



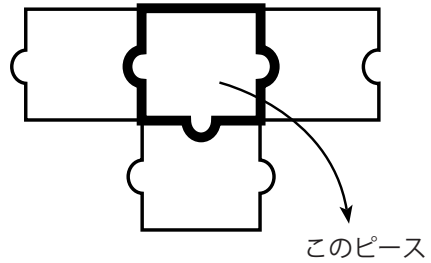
⑦



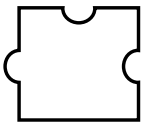
# 同じピースをさがせ！ 解答

5年生の作った問題

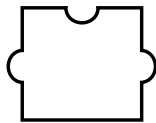
みぎ  
右のピースと  
おな かたち  
同じ形のピースは  
なんこ  
何個  
あるでしょう。  
○をしてください。



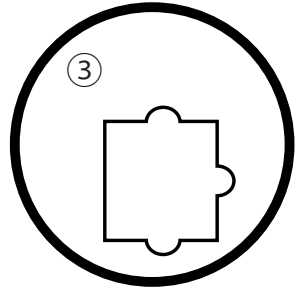
①




②




③




④



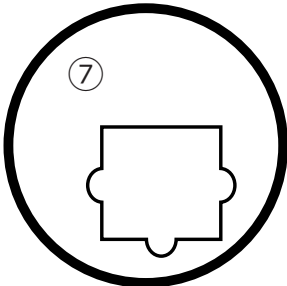
⑤



⑥



⑦









# この人はどれ？

6年生の作った問題

した じょうけん  
下の条件にあう人を、1人だけ見つけましょう。  
また、まぎやく ひと み  
また、真逆の人も見つけましょう。

- ぼうしをかぶっている
- 目を開いている
- ひげははえていない
- わらっていない
- くつをはいている



あ  
合う人 ( )      ぎやく  
逆の人 ( )







## この人はどれ？

## 解答

6年生の作った問題

した じょうけん 下の条件にあう人を、1人だけ見つけましょう。  
 また、まぎやく 真逆の人も見つけましょう。

- ・ぼうしをかぶっている
- ・目を開いている
- ・ひげははえていない
- ・わらっていない
- ・くつをはいている



合う人 ( 5 ) 逆の人 ( 3 )

# ビンゴ

3年生の作った問題

○をあと2つかいて、6ビンゴにします。  
どこに○をかくでしょうか？

ビンゴ…たて・横よこ・ななめのどれかで、一列いちれつ○がそろうこと

○		○	○		○
○	○		○	○	○
	○	○	○		
○	○	○		○	○
	○	○	○	○	
○		○	○		○

ビンゴ 解答

3年生の作った問題

○をあと2つかいて、6ビンゴにします。  
どこに○をかくでしょうか？

ビンゴ…たて・横・ななめよこのどれかで、いちれつ一列○がそろうこと

○		○	○		○
○	○	●	○	○	○
	○	○	○		
○	○	○	●	○	○
	○	○	○	○	
○		○	○		○