

スクエアパズル

6年生の作った問題

スクエアパズルを解いてみよう！

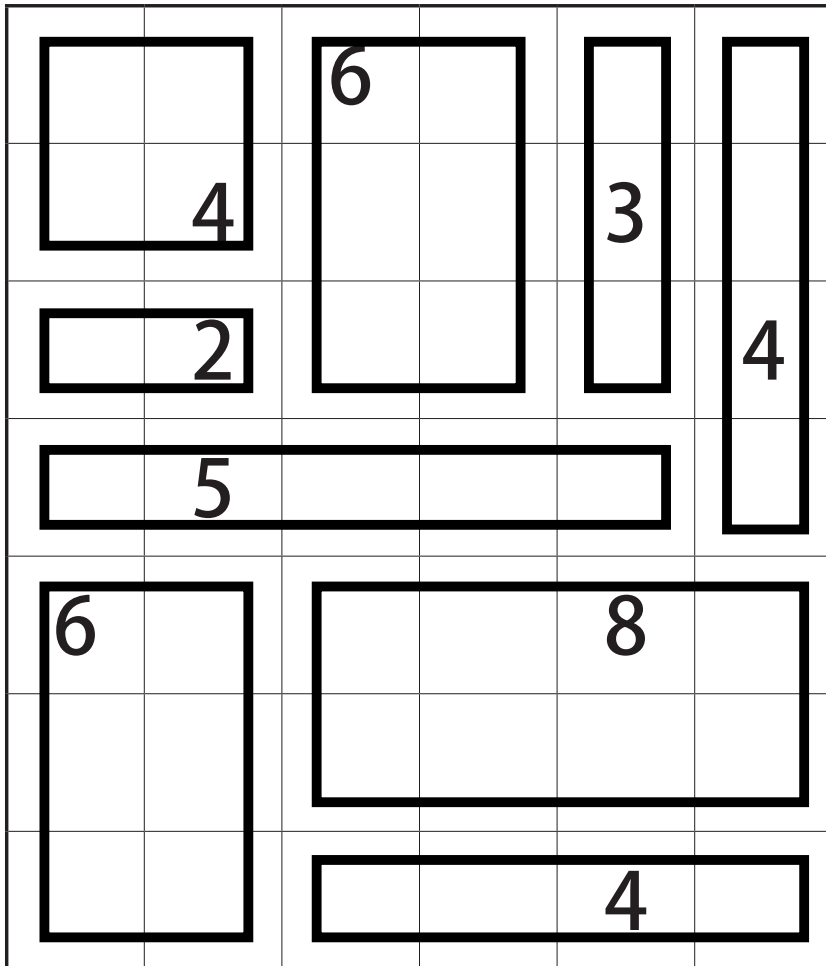
		6			
	4			3	
	2				4
	5				
6				8	
				4	

スクエアパズル

解答

6年生の作った問題

スクエアパズルを解いてみよう！



スクエアパズル

5年生の作った問題

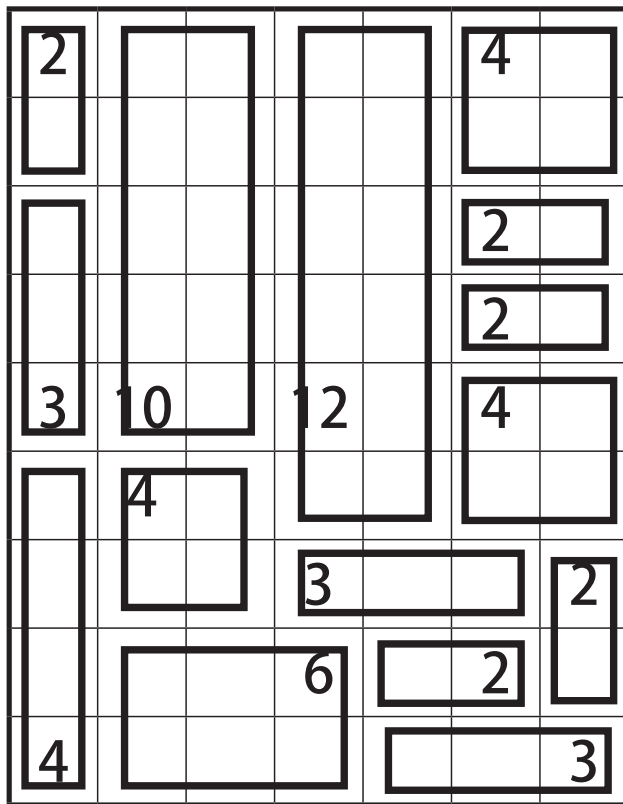
スクエアパズルを^と解いてみよう！

2					4	
					2	
					2	
3	10		12		4	
	4					
			3			2
			6		2	
4						3

スクエアパズル 解答

5年生の作った問題

スクエアパズルを^と解いてみよう！



スクエアパズル

小学生の作った問題

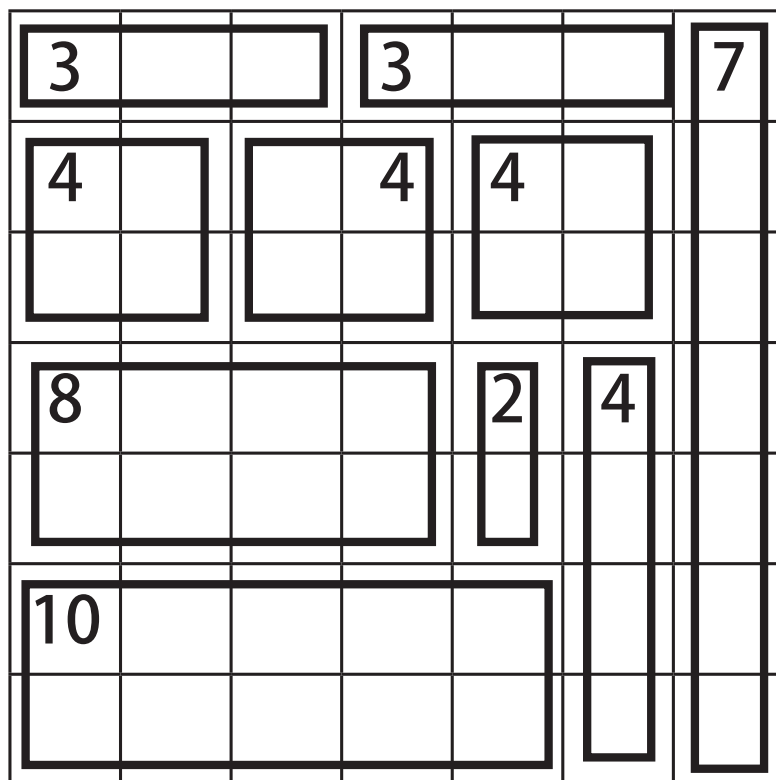
スクエアパズルを解いてみよう！

3			3			7
4			4	4		
8				2	4	
10						

スクエアパズル 解答

小学生の作った問題

スクエアパズルを解いてみよう！



スクエアパズル

小学生の作った問題

スクエアパズルを解いてみよう！

		3			2	2
	2		3			
3						4
2				4		
1	3			4		2
	2			2		2
1	1	7	2		4	

スクエアパズル 解答

小学生の作った問題

スクエアパズルを解いてみよう！

		3			2	2
	2		3			
3						4
2				4		
1	3			4		2
	2			2		2
1	1	7	2		4	

別解あり

スクエアパズル

6年生の作った問題

スクエアパズルを解いてみよう！

5	3			4			
	4	1		6		4	
		4					
			6		5	10	
3	3						
		2	4				

スクエアパズル

解答

6年生の作った問題

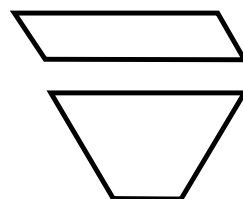
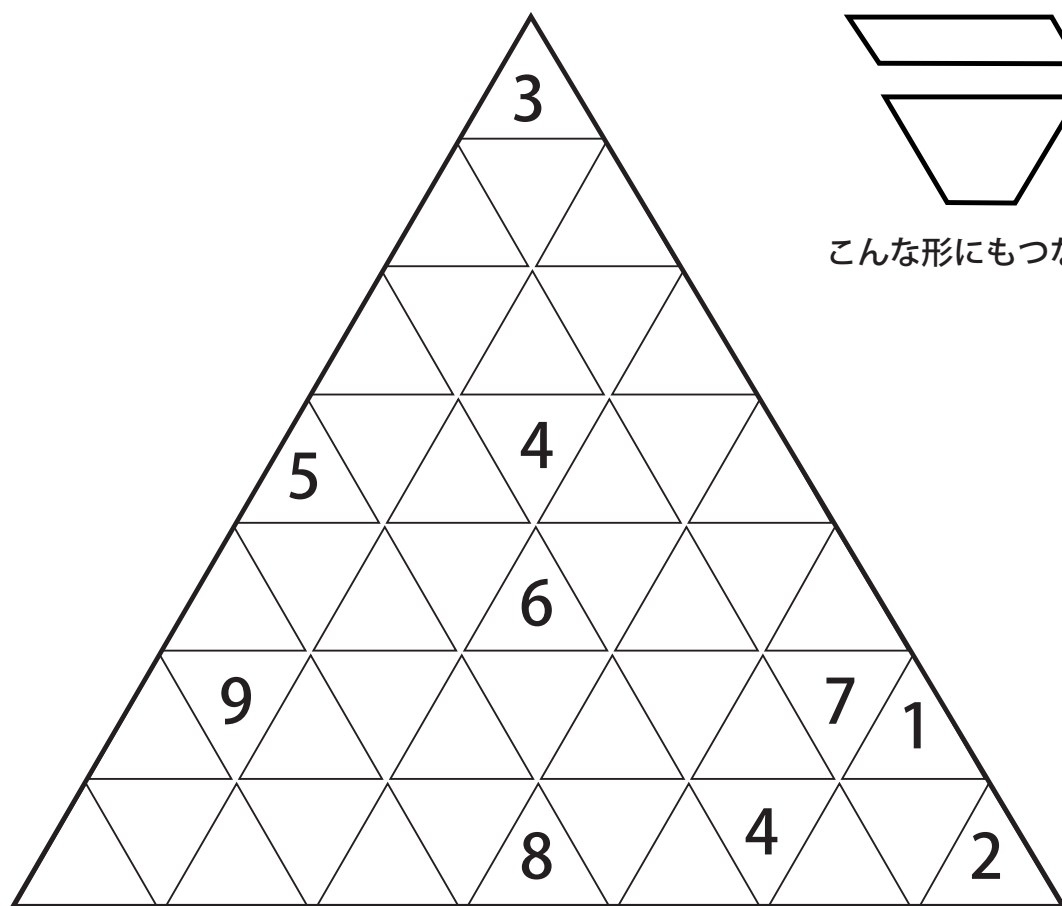
スクエアパズルを解いてみよう！

5	3			4			
	4	1		6		4	
		4					
			6		5	10	
3	3						
		2	4				

トライアングルパズル

5年生の作った問題

トライアングルパズルを解いてみよう！スクエアパズルと同じルールで、数字の数だけ三角形をつなげます。つなげてできあがる形はどんな形でもかまいません。

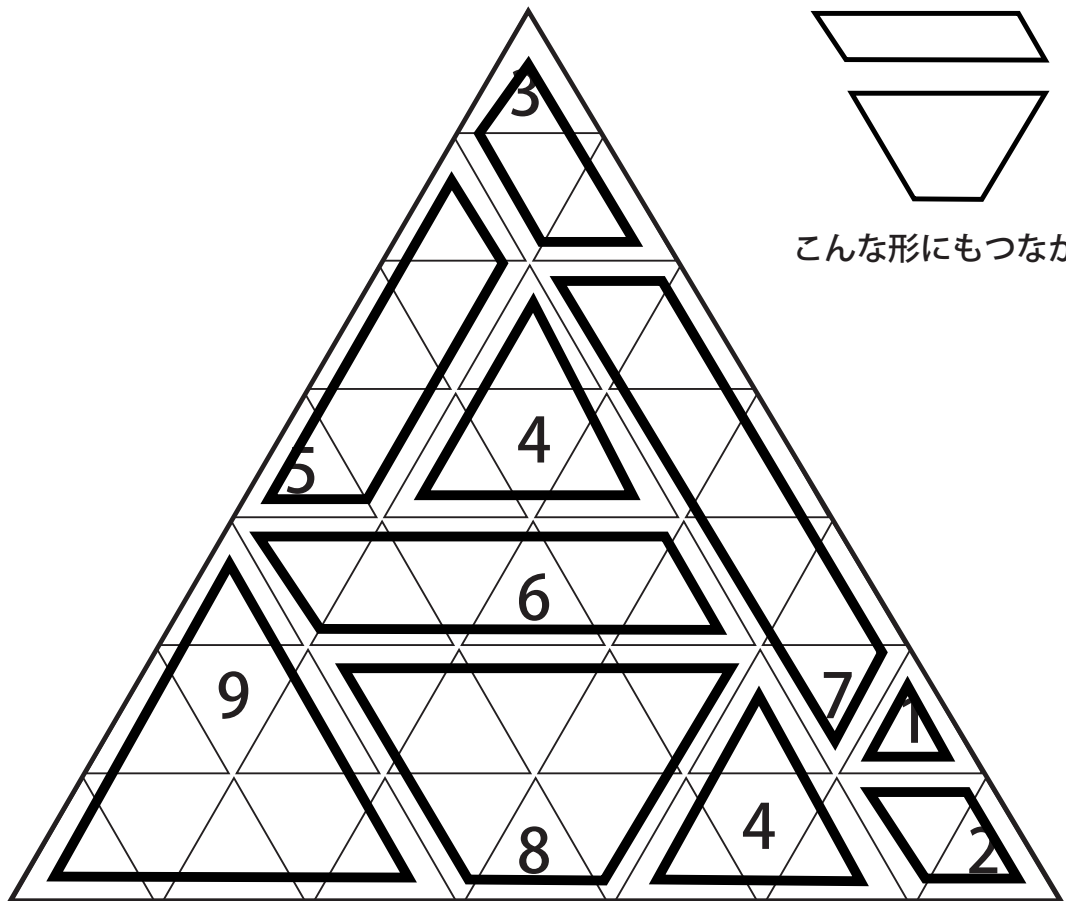


こんな形にもつながるよ！

トライアングルパズル 解答

5年生の作った問題

トライアングルパズルを解いてみよう！スクエアパズルと同じルールで、数字の数だけ三角形をつなげます。つなげてできあがる形はどんな形でもかまいません。



スクエアパズル

花まるの先生スペシャル

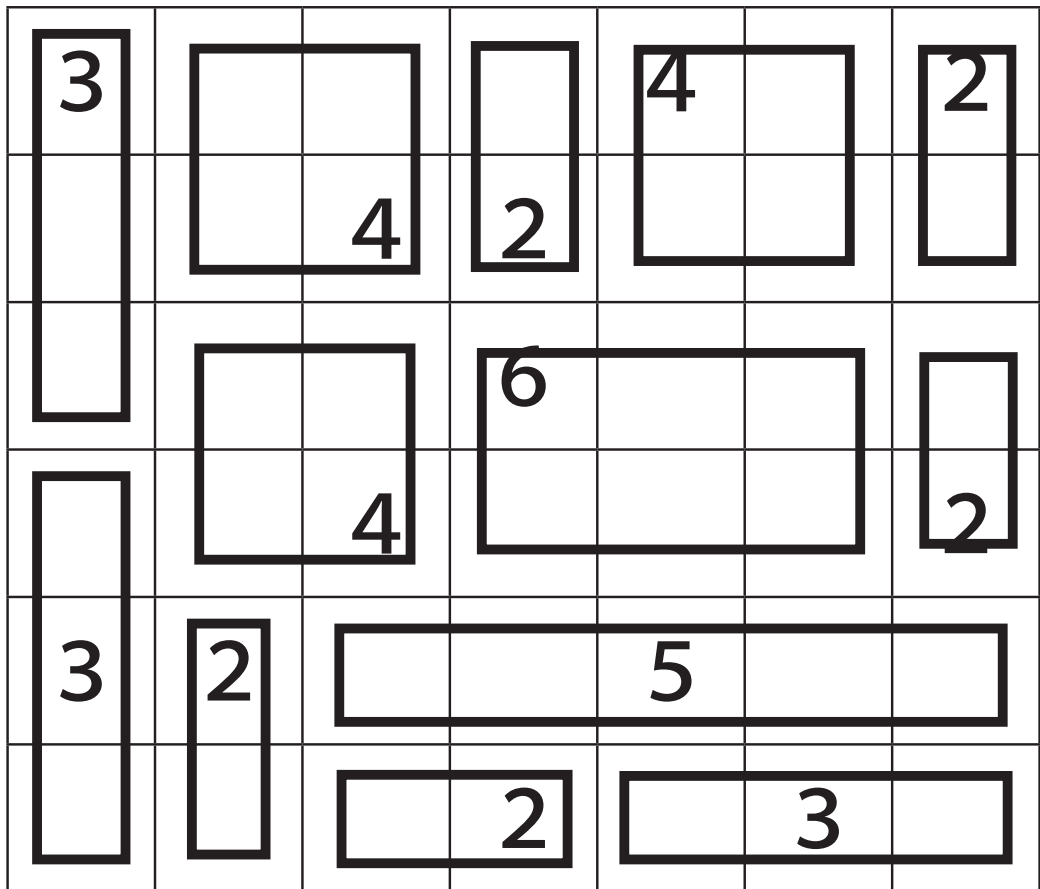
スクエアパズルをといてみよう！

3				4		2
		4	2			
			6			
		4				2
3	2			5		
			2		3	

スクエアパズル 解答

花まるの先生スペシャル

スクエアパズルをといてみよう！



スクエアパズル

5年生の作った問題

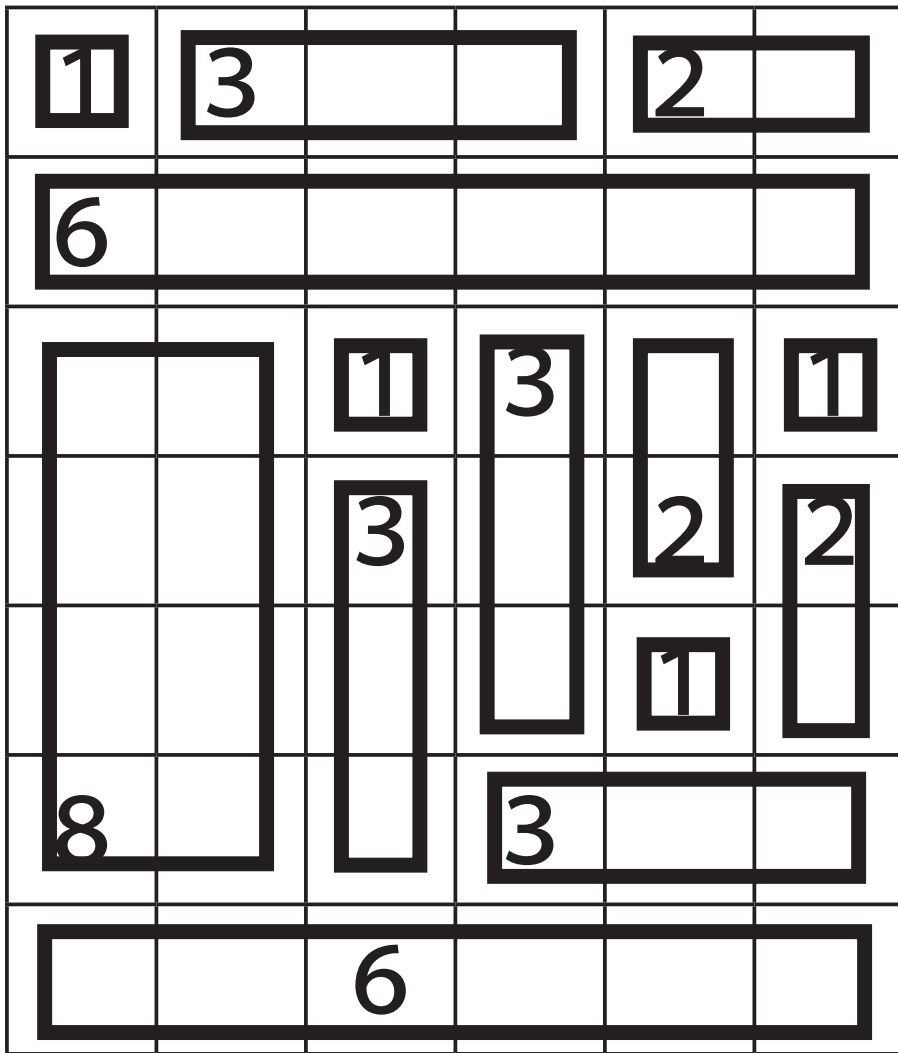
スクエアパズルをといてみよう！

1	3			2	
6					
		1	3		1
		3		2	2
				1	
8			3		
		6			

スクエアパズル 解答

5年生の作った問題

スクエアパズルをといてみよう！



スクエアパズル

2年生の作った問題


スクエアパズルをといてみよう！

	4		2	5			8	
2			2		3		2	
	6					3		

スクエアパズル 解答

2年生の作った問題

スクエアパズルをといてみよう！



スクエアパズル

6年生の作った問題

スクエアパズルをといてみよう！

5	6		8		4
	4				
			6		
3					
2	10				

スクエアパズル 解答

6年生の作った問題

スクエアパズルをといてみよう！

