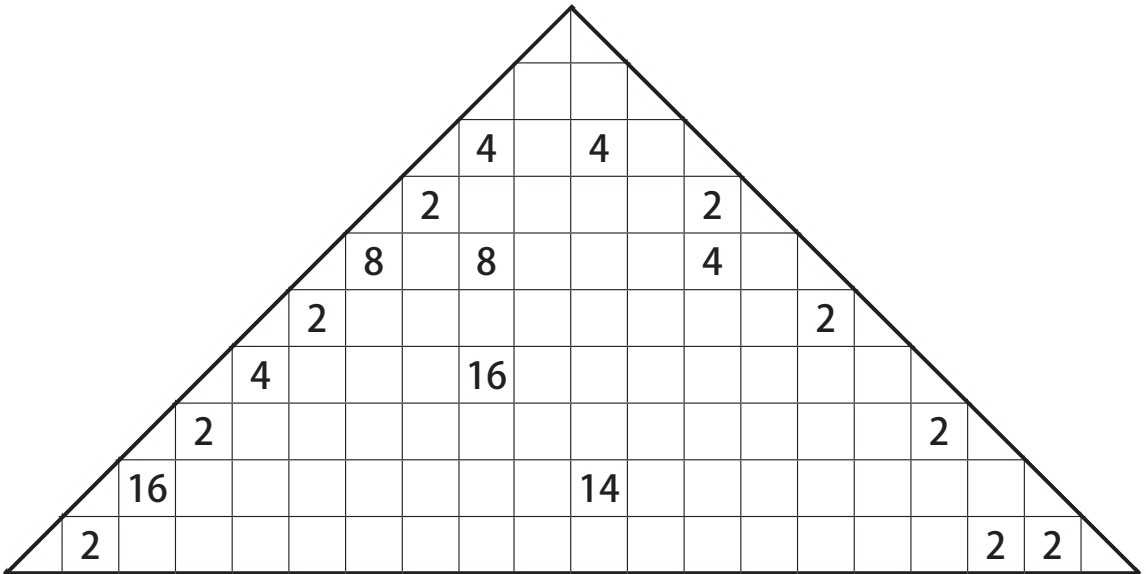


スクエアパズル \triangle

5年生の作った問題

数字の分だけマスをとって□か \triangle の形に区切ろう。
 \triangle は2つで1マスと考^{かんが}えます。

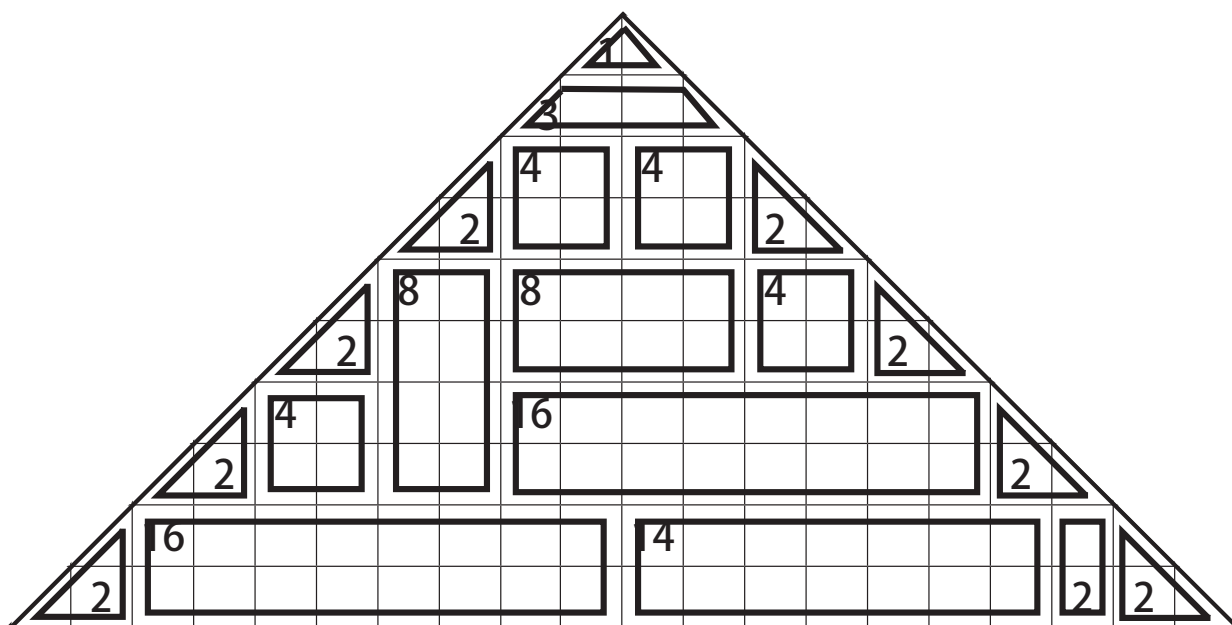


スクエアパズル \triangle

5年生の作った問題

数字の分だけマスをとって□か \triangle の形に区切ろう。

\triangle は2つで1マスと^{かんが}えます。

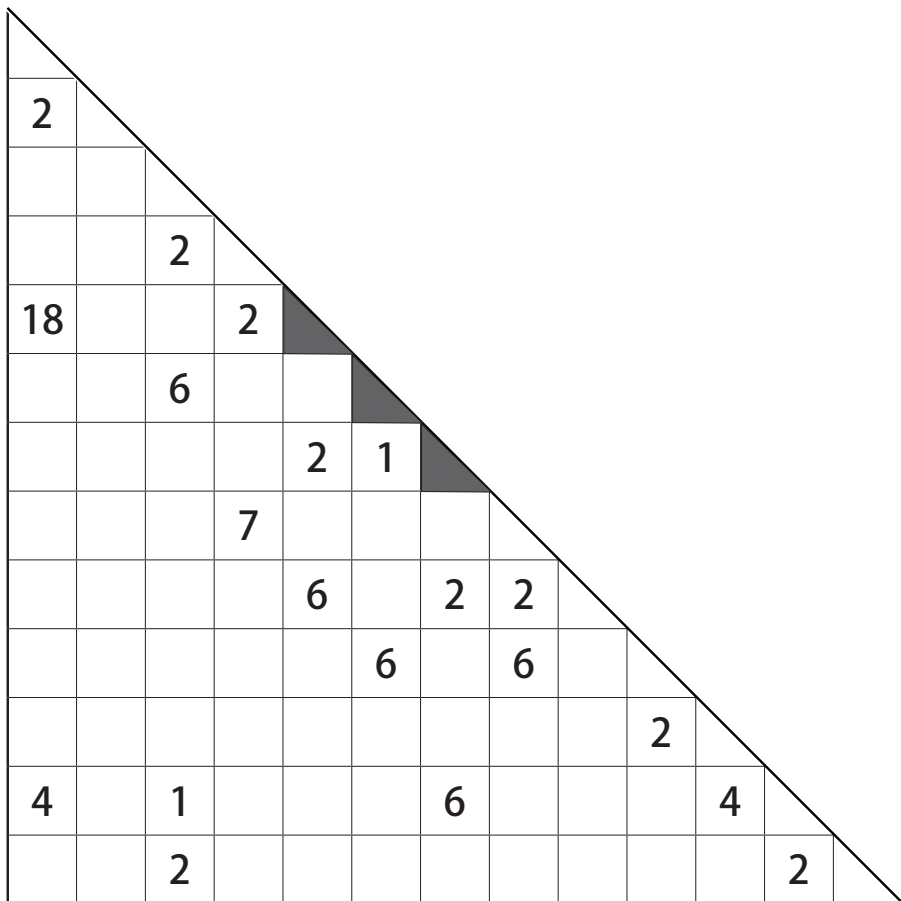


スクエアパズル

5年生の作った問題

数字の分だけマスをとって□か△の形に区切ろう。

△は2つで1マスと考えます。▲のところはとれません。

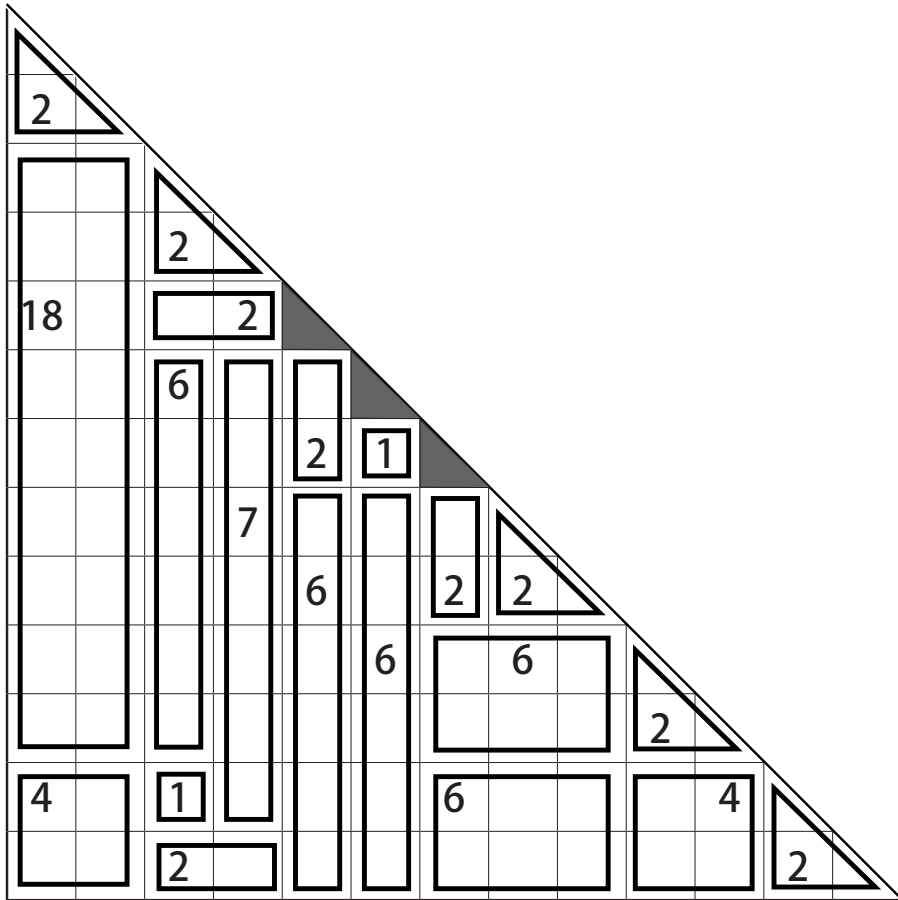


スクエアパズル 解答

5年生の作った問題

数字の分だけマスをとって□か△の形に区切ろう。

△は2つで1マスと考えると、▲のところはとれません。



スクエアパズル

2年生の作った問題

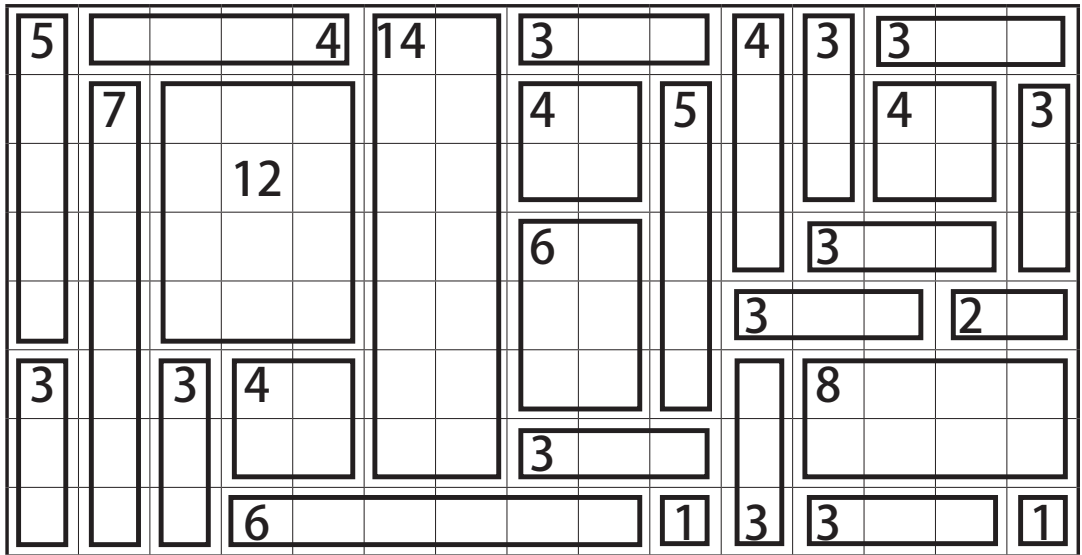
スクエアパズルを^と解いてみよう！

5				4	14		3			4	3	3		
	7						4		5			4		3
			12											
							6				3			
										3			2	
3		3	4								8			
							3							
			6						1	3	3			1

スクエアパズル 解答

2年生の作った問題

スクエアパズルを解いてみよう！



スクエアパズル

6年生の作った問題

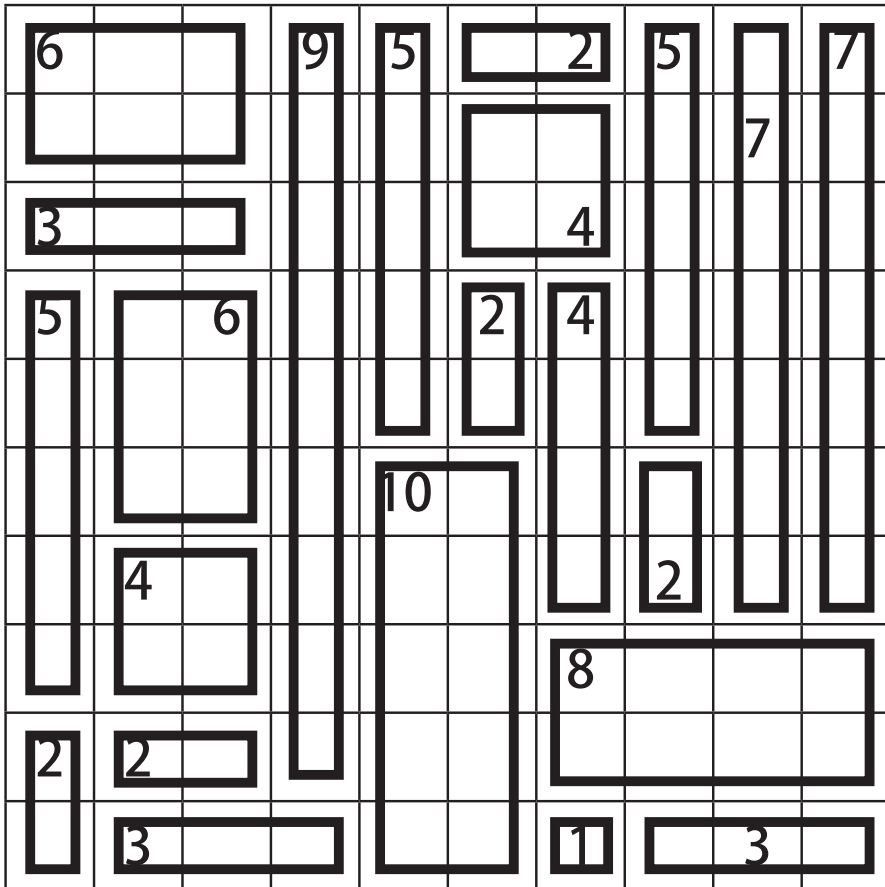
スクエアパズルを解いてみよう！

6			9	5		2	5		7
								7	
3						4			
5		6			2	4			
				10					
	4						2		
						8			
2	2								
	3					1		3	

スクエアパズル 解答

6年生の作った問題

スクエアパズルを解いてみよう！

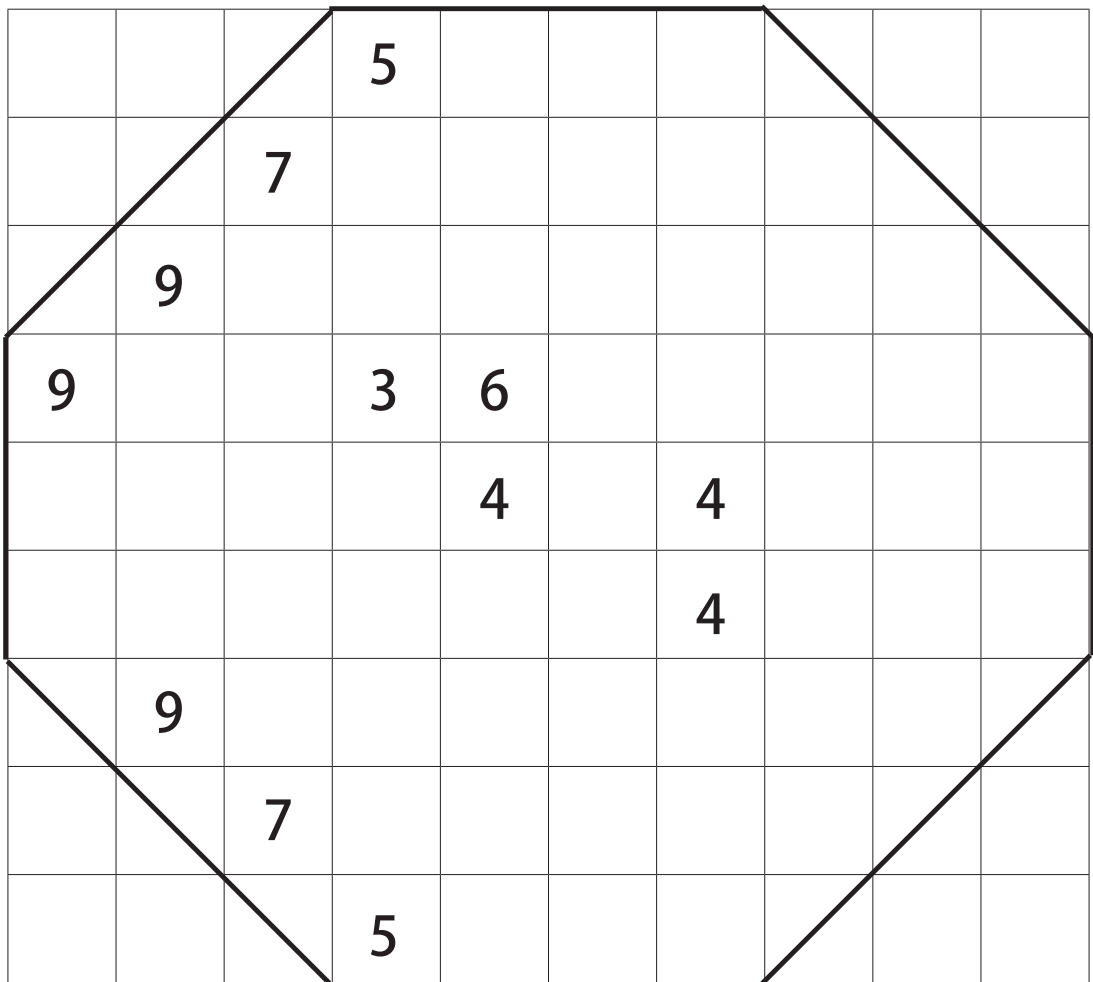


別解あり

スクエアパズル (八角形)

6年生の作った問題

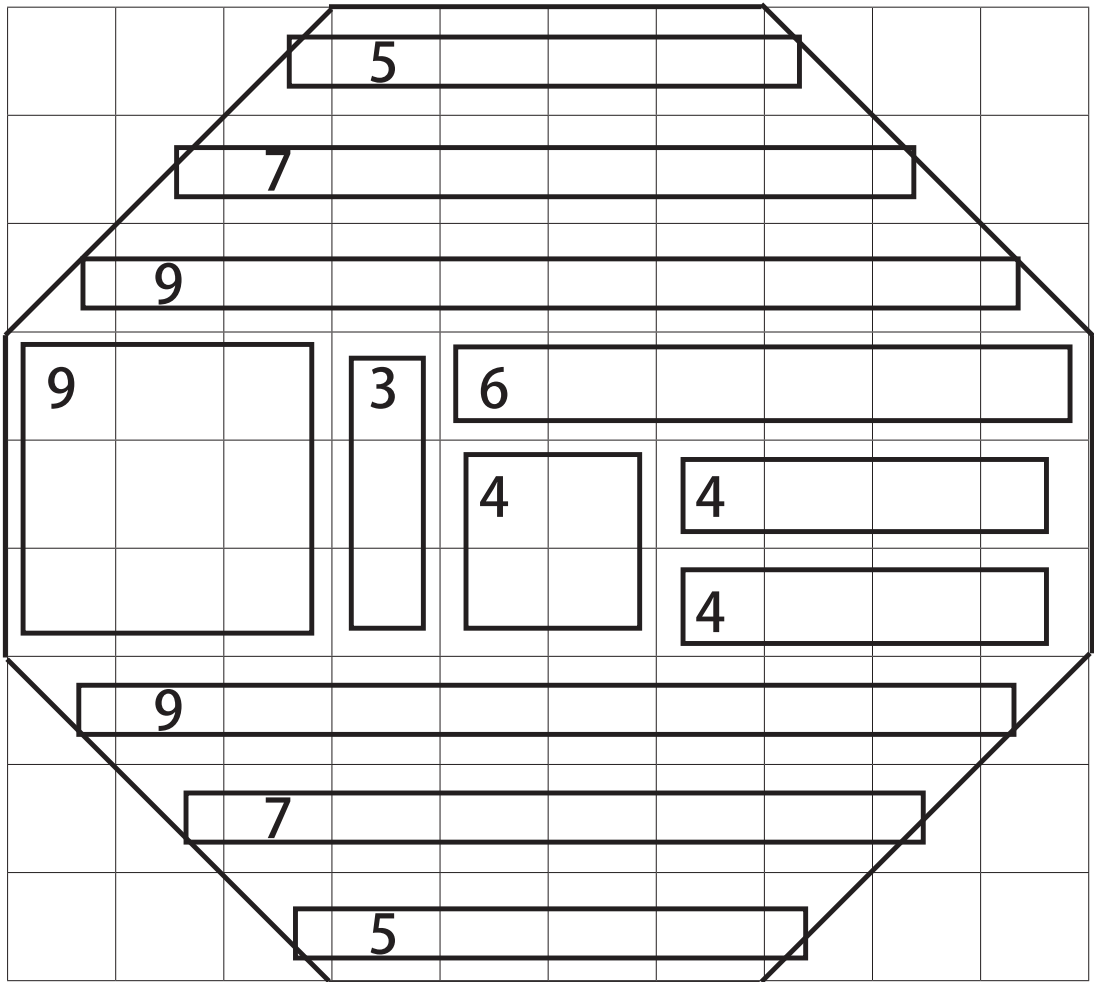
スクエアパズル (八角形バージョン) を解いてみよう！
はっかつけい と
さんかくけい 三角形は2つで1マスです。 せいほうけい ちようほうけい だいけい かたち 正方形・長方形・台形の形ができます。



スクエアパズル (八角形) 解答

6年生の作った問題

スクエアパズル (八角形バージョン) を解いてみよう！
 さんかくけい はっかつけい と せいほうけい ちようほうけい だいけい かたち
 三角形は2つで1マスです。正方形・長方形・台形の形ができます。



スクエアパズル

6年生の作った問題

スクエアパズルを^と解いてみよう！

		8								
	4									
				6						
	9				5					4
3						6			3	
						2			3	2
							2	8		
										2
							4			1

スクエアパズル 解答

6年生の作った問題

スクエアパズルを解いてみよう！

□ □		8 □ □ □									
□ 4 □		□ □ □ □									
□ □ □			□ □ □ □								
□ □ □			□ □ □ □								
□ 9 □			□ □ □ □ 5 □ □ □							□ □ □ □ 4	
3 □ □ □		□ □ □ □ □ □		6 □ □ □ □ □		3 □ □ □ □ □					
2 □ □ □		□ □ □ □ □ □		□ □ □ □ □ □		3 □ □ □ □ □		2 □ □ □ □ □			
□ □ □ □		□ □ □ □ □ □		8 □ □ □ □ □ □		□ □ □ □ □ □		□ □ □ □ □ □		2 □ □ □ □ □	
□ □ □ □		□ □ □ □ □ □		□ □ □ □ □ □		□ □ □ □ □ □		1 □ □ □ □ □		□ □ □ □ □ □	
□ □ □ □		□ □ □ □ □ □		□ □ □ □ □ □		□ □ □ □ □ □		□ □ □ □ □ □		□ □ □ □ □ □	
□ □ □ □		□ □ □ □ □ □		□ □ □ □ □ □		□ □ □ □ □ □		□ □ □ □ □ □		□ □ □ □ □ □	
□ □ □ □		□ □ □ □ □ □		□ □ □ □ □ □		□ □ □ □ □ □		□ □ □ □ □ □		□ □ □ □ □ □	

別解あり

スクエアパズル

6年生の作った問題

スクエアパズルを解いてみよう！

16							3			1	12
				6					3	1	
				2		10					
					2						
4		8								5	
						5					
1		6								4	
4		6					2				
				12				4			
							1				
					6		1			10	
			9								

スクエアパズル 解答

6年生の作った問題

スクエアパズルを解いてみよう！

16						3			1	12
				6				3	1	
				2		10				
					2					
4		8							5	
						5				
1		6							4	
4		6				2				
				12			4			
						1				
					6	1			10	
			9							

別解あり

スクエアパズル

3年生の作った問題

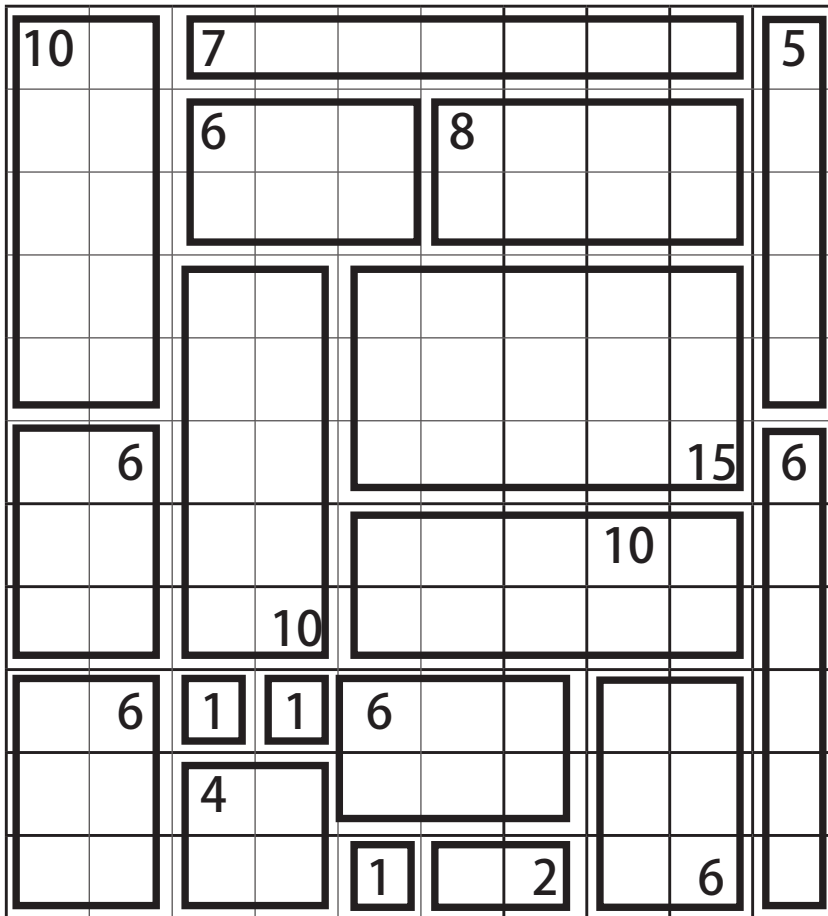
スクエアパズルを解いてみよう！

10		7							5
		6			8				
	6							15	6
							10		
			10						
	6	1	1	6					
		4							
				1		2		6	

スクエアパズル 解答

3年生の作った問題

スクエアパズルを解いてみよう！



スクエアパズル

6年生の作った問題

スクエアパズルを解いてみよう！

4		6				8	4
					2		
			4				
3			3	1	5		2
1	4			4			
		9					4
			2				
3			3			8	

スクエアパズル 解答

6年生の作った問題

スクエアパズルを解いてみよう！

4		6				8	4
			4		2		
3			3	1	5		2
1	4			4			
		9					4
			2				
3			3			8	

スクエアパズル

6年生の作った問題

スクエアパズルをといてみよう！

9			6		9			6	
10									
4		3			5				
		8							
12			6			8		4	
			2	4				4	

スクエアパズル 解答

6年生の作った問題

スクエアパズルをといてみよう！

