


はんにんを探せ！

6年生の作った問題

この7人のだれかが、10億^{おくえん}円をぬすんだどろぼうです。けいさつがつきとめた、はんにんのとくちょう^よを読んで、はんにんをみつけて○をつけましょう。

- ① めがねをかけている。
- ② 身長が高い。
- ③ ながぐつをはいている。
- ④ やせている。




はんにんを探せ！ 解答

6年生の作った問題

この7人のだれかが、10億^{おくえん}円をぬすんだどろぼうです。けいさつがつきとめた、はんにんのとくちょう^よをよんで、はんにんをみつけて○をつけましょう。

- ① めがねをかけている。
- ② 身長が高い。
- ③ ながぐつをはいている。
- ④ やせている。



絵にかいて考えてみよう

3年生の作った問題

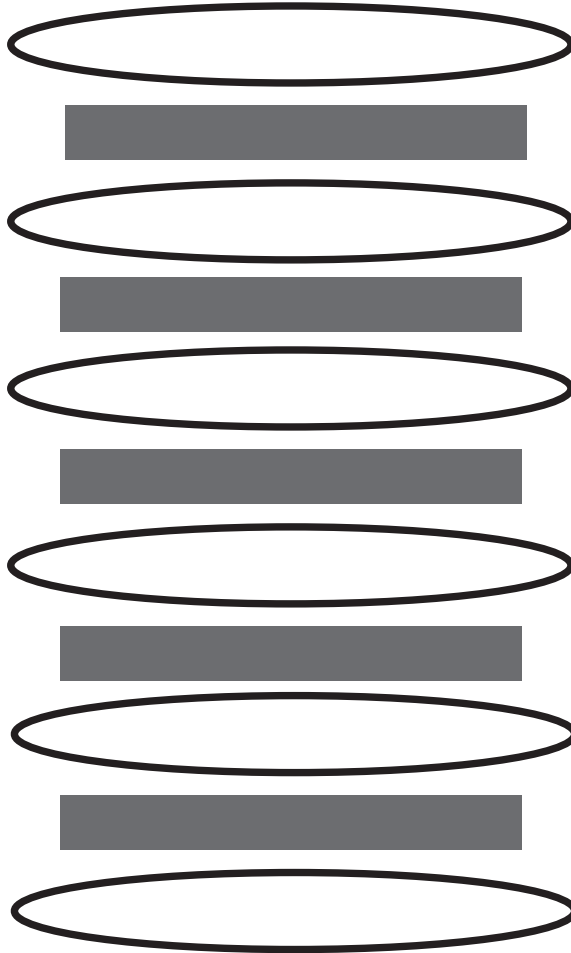
パンを6まいかさねて、それぞれのパンのあいだに、ベーコンをはさみました。ベーコンは全部でなんまい必要でしょう。

答え：

絵にかいて考えてみよう 解答

3年生の作った問題

パンを6まいかさねて、それぞれのパンのあいだに、ベーコンをはさみました。ベーコンは全部でなんまい必要でしょう。



答え：5まい

4つならばないように

4年生の作った問題

たて、^{よこ}横、^{おな}ななめに同じマークがならないように、あいているマスに○か×を書きましょう。

	×	×	○
	×		×
○	○	○	
○	×	×	○

4つならばないように 解答

4年生の作った問題

たて、^{よこ}横、^{おな}ななめに同じマークがならないように、あいているマスに○か×を書きましょう。

×	×	×	○
○	×	×	×
○	○	○	×
○	×	×	○