

スクエアパズル

6年生の作った問題

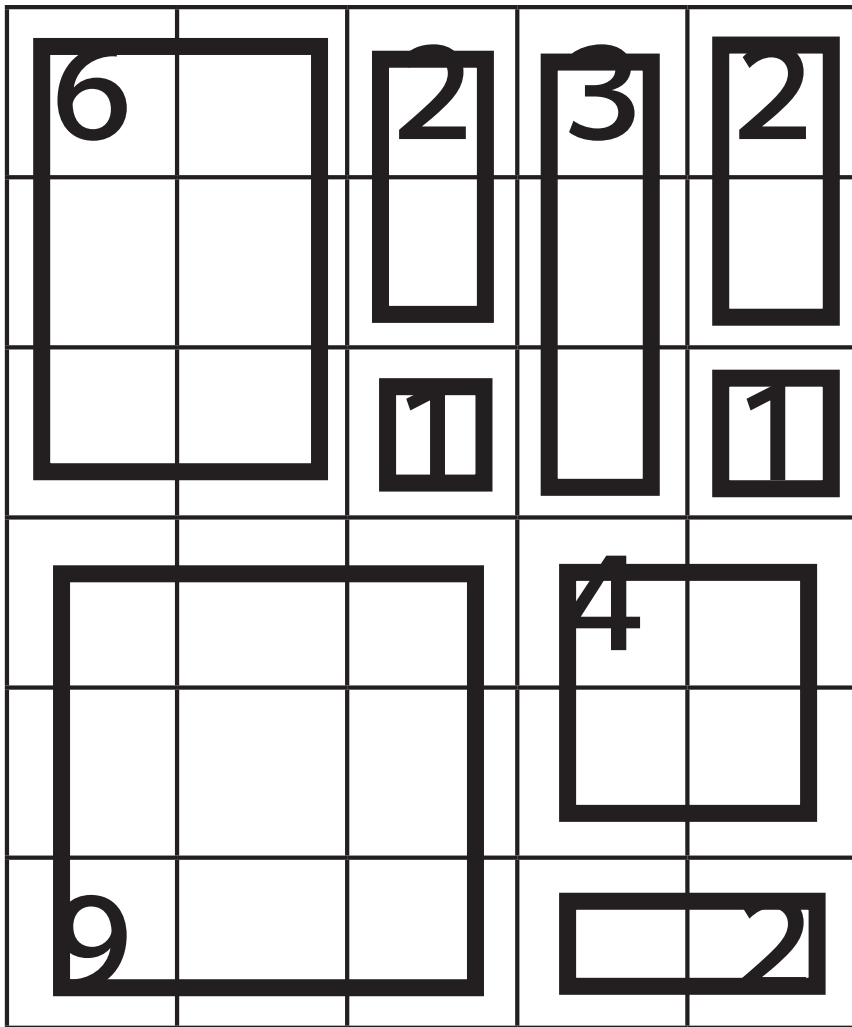
スクエアパズルをといてみよう！

6		2	3	2
		1		1
			4	
9				2

スクエアパズル 解答

6年生の作った問題

スクエアパズルをといてみよう！



スクエアパズル

5年生の作った問題

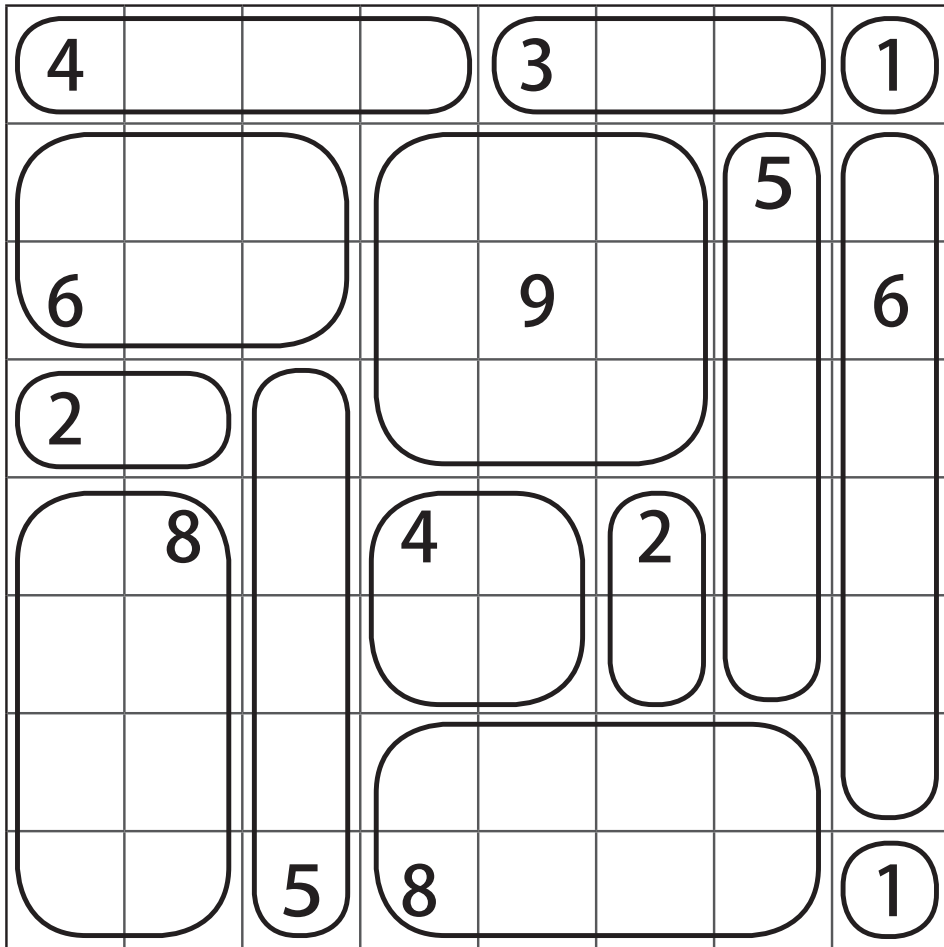
スクエアパズルを^と解いてみましょう。

4				3			1
						5	
6				9			6
2							
	8		4		2		
		5	8				1

スクエアパズル 解答

5年生の作った問題

スクエアパズルを解いてみましょう。



スクエアパズル

5年生の作った問題

スクエアパズルを^と解きましょう。

	3			4		
	2		4	2		
					2	
4		5				
					2	
		6	4	4		7
2					2	
2		1				

スクエアパズル 解答

5年生の作った問題

スクエアパズルを^と解きましょう。

	3			4			
	2		4	2			
					2		
4	5						
					2		
		6	4	4		7	
2					2		
2		1					

別解あり

スクエアパズル

6年生の作った問題

スクエアパズルを解いてみましょう。

6		3	3	6	
4				2	
1	4	2		1	4
3		2	4		
		2		1	

スクエアパズル 解答

6年生の作った問題

スクエアパズルを解いてみましょう。

6		3	3	6	
4				2	
1	4	2		1	4
3		2	4		
		2		1	

スクエアパズル

2年生の作った問題

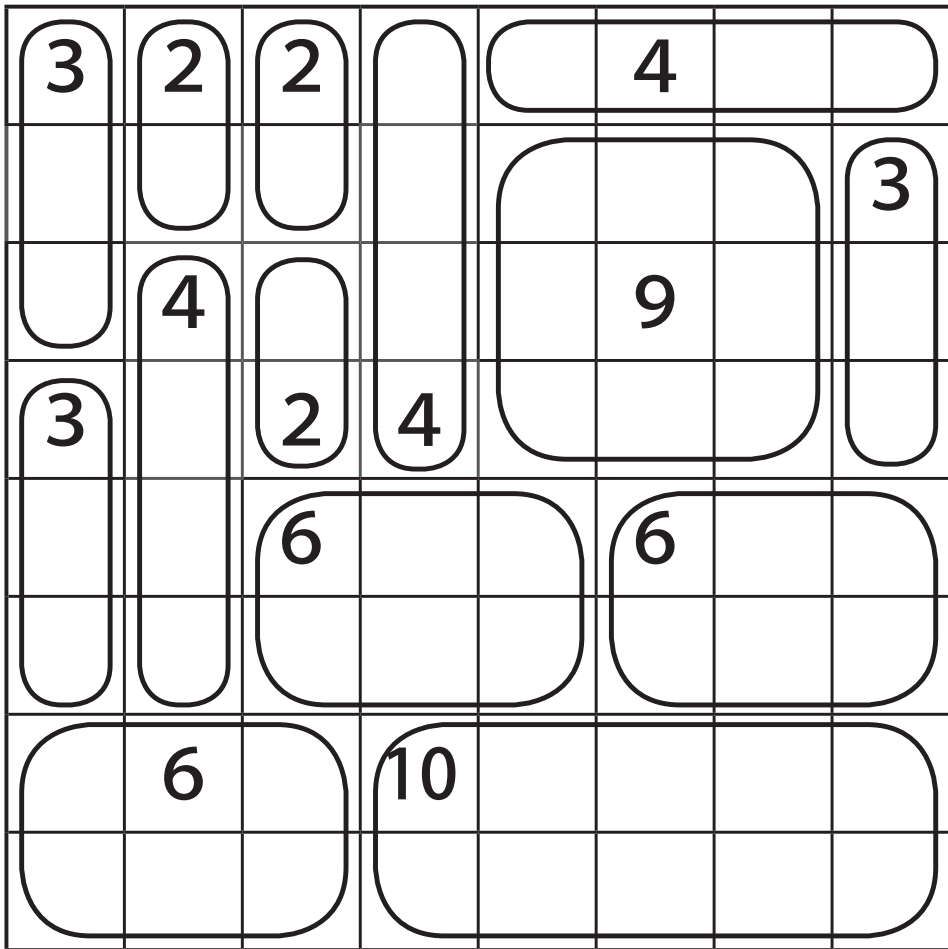
それぞれの^{すうじ}数字をその^{おお}大きさの^{しかく}四角でかこみましょう。

3	2	2			4		
							3
	4				9		
3		2	4				
		6			6		
	6		10				

スクエアパズル 解答

2年生の作った問題

それぞれの^{すうじ}数字をその^{おお}大きさの^{しかく}四角でかこみましょう。



スクエアパズル

6年生の作った問題

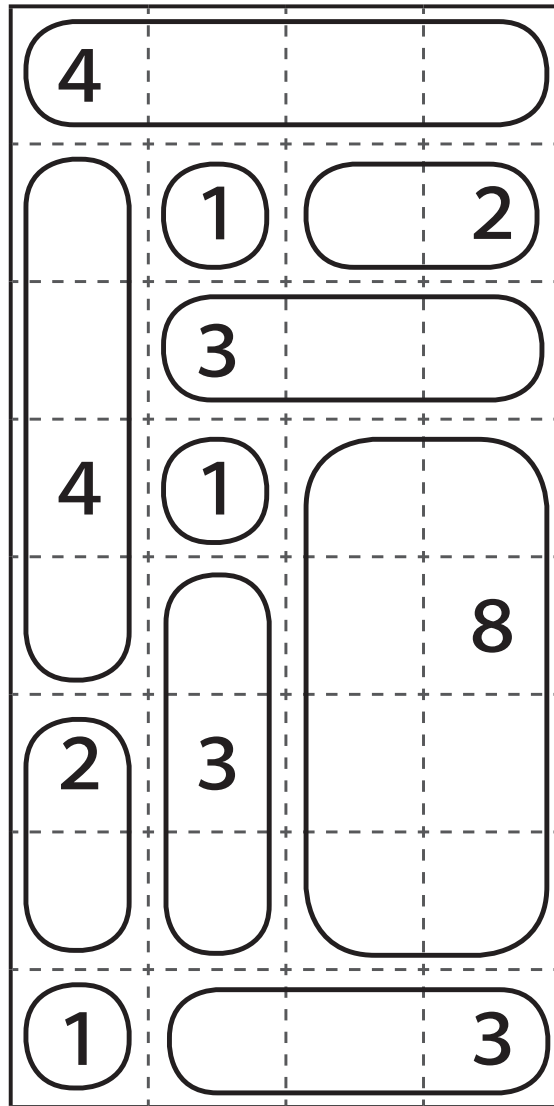
それぞれの^{すうじ}数字をその^{おお}大きさの^{しかく}四角でかこみましょう。

4			
	1		2
	3		
4	1		
			8
2	3		
1			3

スクエアパズル 解答

6年生の作った問題

それぞれの^{すうじ}数字をその^{おお}大きさの^{しかく}四角でかこみましょう。



スクエアパズル

2年生の作った問題

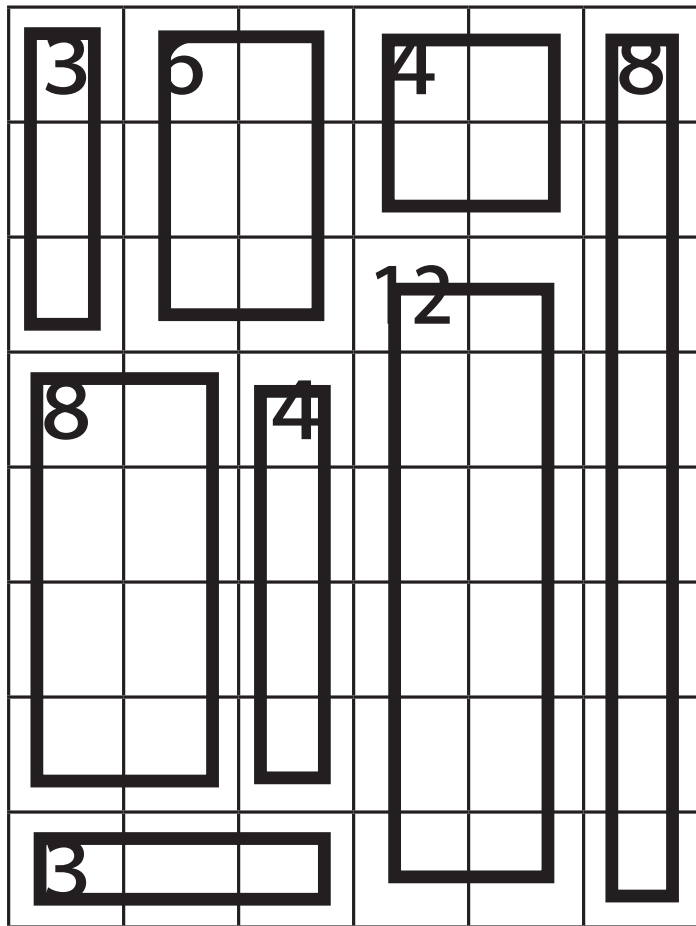
スクエアパズルをといてみよう！

3	6		4		8
			12		
8		4			
3					

スクエアパズル 解答

2年生の作った問題

スクエアパズルをといてみよう！



スクエアパズル

2年生の作った問題


スクエアパズルをといてみよう！

6				2
				2
6				4
		10		4
				6

スクエアパズル 解答

2年生の作った問題

スクエアパズルをといてみよう！



スクエアパズル

6年生の作った問題

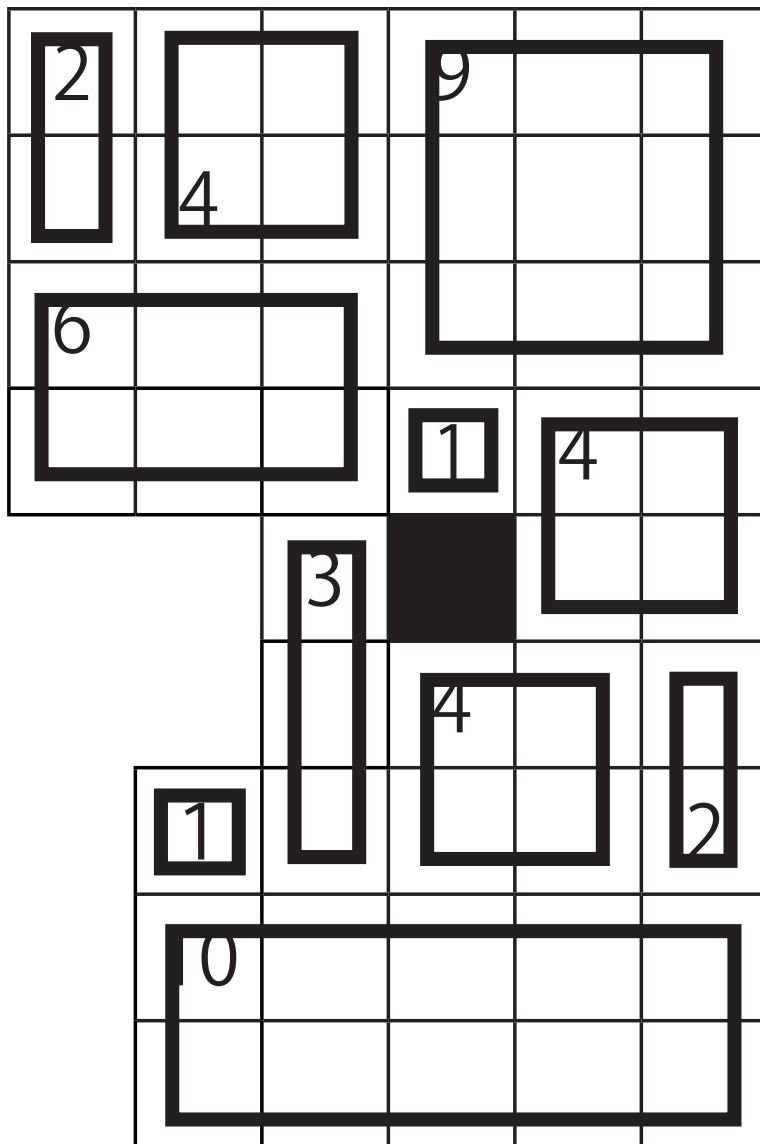
スクエアパズルをといてみよう！

2			9		
	4				
6					
			1	4	
		3			
			4		
	1				2
	10				

スクエアパズル 解答

6年生の作った問題

スクエアパズルをといてみよう！



スクエアパズル

6年生の作った問題

スクエアパズルをといてみよう！

6					
4		4	9		
6					
			6		
		1			

スクエアパズル 解答

6年生の作った問題

スクエアパズルをといてみよう！

